

確認のテスト

第1章
地球のようすと世界の国々

点 / 100点

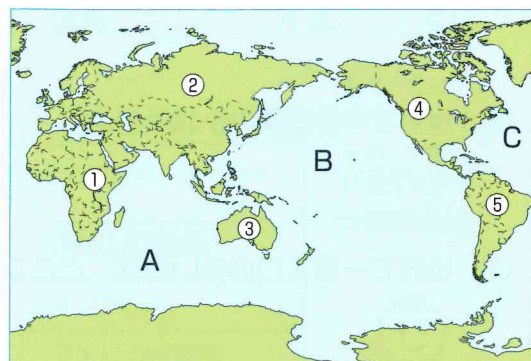
1 地図を見て、次の問いに答えましょう。

(各5点)

(1) 世界最大の海洋を、右の地図中のA～Cから一つ選び、記号で答えなさい。

(2) 世界最大の大陸を、地図中の①～⑤から一つ選び、番号で答えなさい。

(3) ③の大陸は、世界を六つの州に分けたときに何という州に入りますか。



(4) 地球上の陸地と海洋の面積比を示したものを、右の□から一つ選び、記号で答えなさい。

ア 6 : 4 イ 5 : 5
ウ 4 : 6 エ 3 : 7

/20点

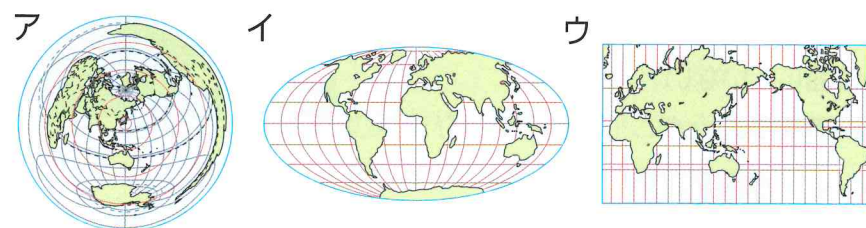
(1)	(2)	(3)	(4)
-----	-----	-----	-----

2 次の(1), (2)の文が述べている地図を、ア～ウの中からそれぞれ一つ選び、記号で答えましょう。

(各6点)

(1) 経線と緯線に対する角度が正しく、航海図に使われる。

(2) 中心からの距離と方位が正しい。



/12点

(1)	(2)
-----	-----

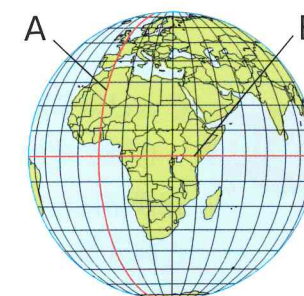
3 次の問いに答えましょう。

(各8点)

(1) 図中のAの0度の経線を何といいますか。

(2) Aが通っている都市を、下の□から選び、記号で答えなさい。

ア ローマ イ ロンドン
ウ モスクワ エ ニューヨーク



(3) 図中のBの0度の緯線を何といいますか。

(4) 気温が一年じゅう高いのは、A・Bのどちら付近ですか。ア～ウから一つ選び、記号で答えなさい。
〔ア A イ B ウ どちらでもない〕

(5) 東京の位置を、□の中の緯度・経度から選んで書きなさい。

/40点

北緯36度 南緯36度 西経140度 東経140度	(1)	(2)	(3)
	(4)	(5)	

4 次の問いに答えましょう。

(各7点)

(1) 世界で、①面積が最大の国、②人口が最も多い国を、それぞれ答えなさい。

(2) 右の形の国は、人口が世界で2番目に多い国です。国名を答えなさい。



(3) 次のア～エのうち、島国を一つ選び、記号で答えなさい。

/28点

ア モンゴル
イ バチカン市国
ウ ロシア連邦
エ 日本

(1)	①	②
(2)		(3)

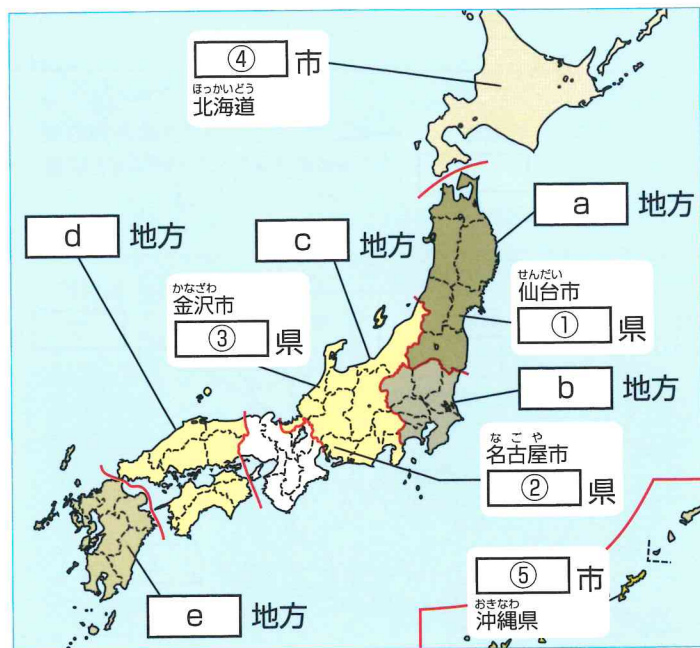
確認のテスト

第4章
日本のようす

点 / 100点

1 次の地図を見て、下の問いに答えましょう。

(各4点)



(1) 地図中の①～③には県名を、④・⑤には県庁所在地名を、次のア～オからそれぞれ一つずつ選び、記号で答えなさい。

[ア 石川 イ 宮城 ウ 愛知 エ 札幌 オ 那覇]

(2) 地図中のa～eにあてはまるものを、次のア～キからそれぞれ一つずつ選び、記号で答えなさい。

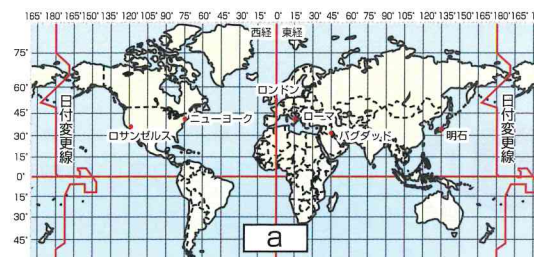
ア 近畿 イ 北海道 ウ 東北 エ 関東
オ 中国・四国 カ 九州 キ 中部

/40点

(1)	①	②	③	④	⑤
(2)	a	b	c	d	e

2 右の図を見て、次の問いに答えましょう。

(各8点)



(1) aは、世界の時刻の基準となる線です。この線を何といいますか。

(2) 1時間の時差が生じるとき、経度は何度変わりますか。次のア～ウから一つ選び、記号で答えなさい。

[ア 15度 イ 30度 ウ 45度]

(3) 日本の標準時は、何度の経線を基準にしていますか。次のア～ウから一つ選び、記号で答えなさい。

[ア 東経135度 イ 東経150度 ウ 西経135度]

(4) 日本が4月15日午前0時のとき、ロンドンは何月何日の何時ですか。次のア～エから一つ選び、記号で答えなさい。

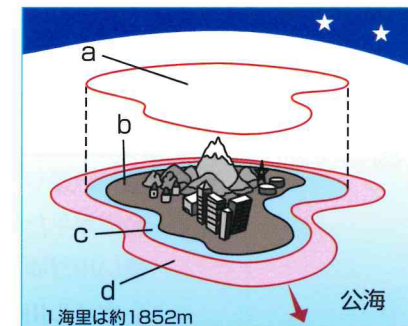
ア 4月15日午前9時 イ 4月14日正午
ウ 4月15日午後3時 エ 4月14日午後3時

/32点

(1)		(2)		(3)		(4)	
-----	--	-----	--	-----	--	-----	--

3 右の図を見て、次の問いに答えましょう。

(各7点)



(1) a～cにあてはまる語句を、次のア～ウからそれぞれ一つずつ選び、記号で答えなさい。

[ア 領土 イ 領空 ウ 領海]

(2) dの経済水域は、領海の外側で沿岸から何海里以内ですか。次のア～ウから一つ選び、記号で答えなさい。

[ア 12 イ 200 ウ 300]

/28点

(1)	a	b	c	(2)	海里
-----	---	---	---	-----	----

確認のテスト

第2章
世界の人々の生活と環境

点 / 100点

1 次の①～⑤の気候帯の説明にあてはまる文章を、下のア～オからそれぞれ選び、記号で答えましょう。(各6点)

① 寒帯 ② 冷帯(亜寒帯) ③ 温帯 ④ 熱帯 ⑤ 乾燥帯

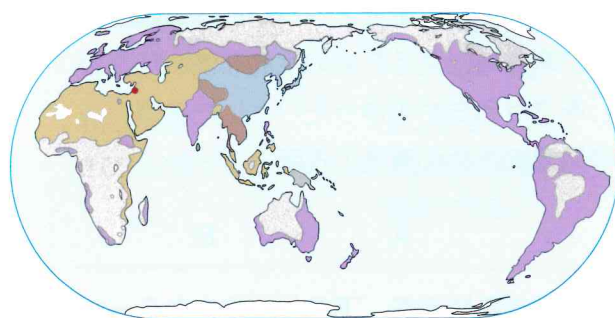
- ア はっきりとした季節があり、気温や降水量の変化が大きい。
イ 一年じゅう寒く、植物はほとんど育たない。
ウ 一年を通して雨がほとんど降らず、乾燥している。
エ 冬は寒さがきびしく、夏は短い間気温が上がる。
オ 気温が一年じゅう高く、雨が多い。

/30点

①		②		③		④		⑤	
---	--	---	--	---	--	---	--	---	--

2 次の図を見て、あとの問いに答えましょう。(各8点)

世界の宗教分布
a ヒンドゥー教
b 道教、儒教、神道、仏教など
c その他の宗教
ユダヤ教



(1) a～cにあてはまるものを、下の□からそれぞれ選び、記号で答えなさい。

ア 仏教 イ キリシト教 ウ イスラム教

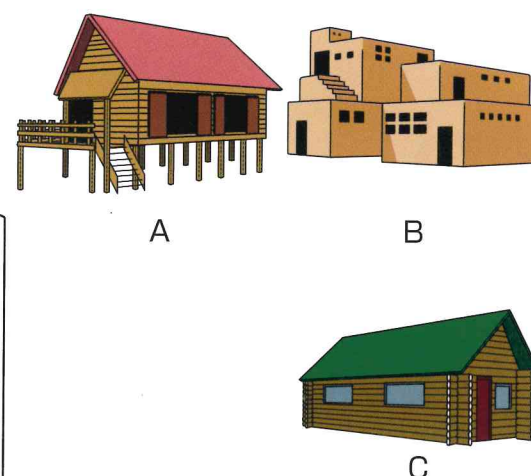
(2) (1)の三つの宗教は、何とよばれていますか。

/32点

(1)	a		b		c		(2)	
-----	---	--	---	--	---	--	-----	--

3 右の図を見て、次の問いに答えましょう。(各6点)

(1) 図A～Cは、世界のある地域の住居です。それぞれの図の説明としてあてはまるものを、ア～エからそれぞれ選び、記号で答えなさい。



- ア 寒い地域では、雪や氷を使ってつくられた住居が見られる。
イ 乾燥した地域では、日干しれんがでつくられた住居が見られる。
ウ 暑い地域では、高床式の住居で湿気や増水にそなえている。
エ 丸太づくりの住居は、針葉樹林のある冷帯の地域でよく見られる。

(2) 右の図は、世界のある地域で用いられている衣服です。この図の説明としてあてはまるものを、ア～ウから選び、記号で答えなさい。



- ア 厳しい寒さにたえるための毛皮を使った衣服
イ 高地などで、強い風をふせぐための衣服
ウ 暑い日差しをさけるためのゆったりとした衣服

/24点

(1)	A		B		C		(2)	
-----	---	--	---	--	---	--	-----	--

4 □にあてはまるものを、下の□から選び、記号で答えましょう。(各7点)

(1) □ …東南アジアなど、雨の比較的多い地域で主食とされる。ご飯などに利用されている。

(2) □ …ヨーロッパなど、雨の比較的小さい地域で主食とされる。パンやパスタなどに利用されている。

/14点

ア とうもろこし イ 小麦 ウ 米

(1)		(2)	
-----	--	-----	--

確認のテスト

第3章
世界の諸地域①

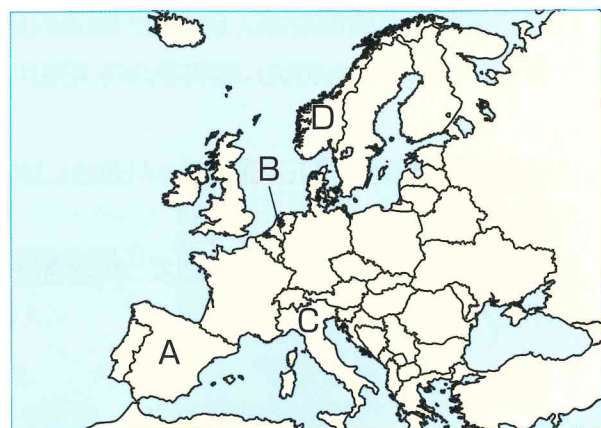
点 / 100点

1 右の地図を見て、次の問いに答えましょう。

(各6点)

- (1) 地図中のAの国で多く信仰されているキリスト教の宗派を、下のア～ウから一つ選び、記号で答えなさい。

ア カトリック イ 正教会
ウ プロテスタント



- (2) 次の説明にあてはまる国を、地図中のA～Dからそれぞれ選び、記号で答えなさい。

- ① 乳牛を飼い、チーズやバターを生産する酪農がさかんな国。
② 海岸沿いにフィヨルドとよばれる入り組んだ地形がある国。

- (3) アルプス山脈より南の地域で行われている、冬の間は小麦、夏になるとぶどうやオリーブを栽培する農業のことを何といいますか。

- (4) 地図中にある国の多くは、ヨーロッパの政治的・経済的な結びつきを強めるための組織に加盟しています。その組織の略称をアルファベット2字で答えなさい。

- (5) (4)の組織に加盟している国の中には、共通の通貨を使用している国も多くあります。この共通通貨を何といいますか。

/36点

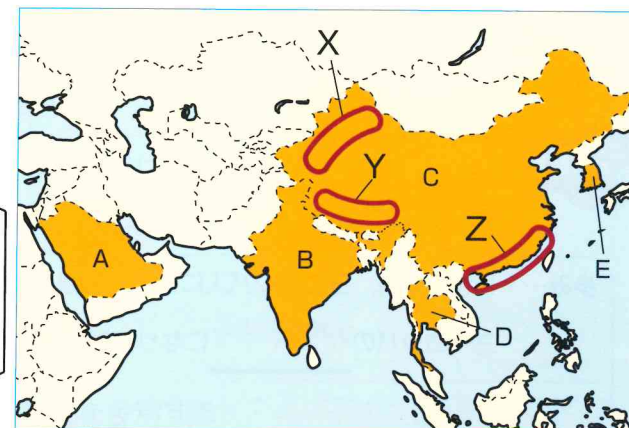
(1)		(2) ①	②	(3)	
(4)		(5)			

2 右の地図を見て、次の問いに答えましょう。

(各8点)

- (1) 地図中のAの国について、正しく述べていないものを、下のア～エから一つ選び、記号で答えなさい。

ア 人口の大半がイスラム教徒
イ 二期作が行われている
ウ 羊やらくだの遊牧がさかん
エ OPECの加盟国



- (2) Bの国の急速な発展を支えている情報技術産業のことを、略して何産業といいますか。アルファベット2字で答えなさい。

- (3) Cの国で、経済特区が設けられている地域を、地図中のX～Zから一つ選び、記号で答えなさい。

- (4) Dの国が加盟している組織を、下のア～ウから一つ選び、記号で答えなさい。
〔ア ASEAN イ ANZUS ウ AU〕

- (5) Eの国の正式な名称を、下のア～ウから一つ選び、記号で答えなさい。
〔ア 中華人民共和国 イ 朝鮮民主主義人民共和国 ウ 大韓民国〕

- (6) 人口について、次の問いに答えなさい。

- ① 人口が世界一の国を、地図中のA～Eから一つ選び、記号で答えなさい。
② ①の国で人口の増加をおさえるためにとられている政策を何といいますか。

- (7) アジアN I E Sの一員に数えられる国を、地図中のA～Eから一つ選び、記号で答えなさい。

/64点

(1)		(2)	産業	(3)		(4)		(5)	
(6) ①		②		(7)					

確認のテスト

第3章
世界の諸地域②

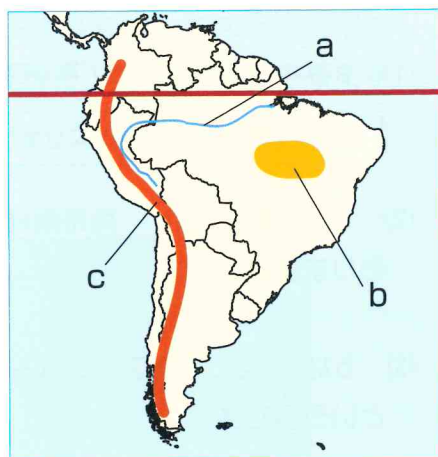
点 / 100点

1 右の地図を見て、次の問いに答えましょう。

(各5点)

- (1) 地図中のa～cにあてはまるものを、
からそれぞれ一つ選び、記号で答えなさい。

ア アンデス山脈 イ アマゾン川
ウ ブラジル高原 エ パンパ



- (2) aの流域で行われてきた、森林や草原を焼きはらい、その灰を肥料にする農業を何といいますか。

- (3) ブラジルが世界一の生産量をほこる農作物を、次のア～ウから一つ選びなさい。
[ア カカオ イ 米 ウ コーヒー]

/25点

(1)	a	b	c	(2)		(3)	
-----	---	---	---	-----	--	-----	--

2 次の問いに答えましょう。

(各7点)

- (1) 20世紀にオーストラリアで行われていた、ヨーロッパ系の移民を優先させる政策を何といいますか。

- (2) 現在のオーストラリアが目ざしている、さまざまな文化をたがいに尊重しあうような社会を何といいますか。

- (3) ニュージーランドの先住民を何といいますか。

/21点

(1)		(2)		(3)	
-----	--	-----	--	-----	--

3 右の地図を見て、次の問いに答えましょう。

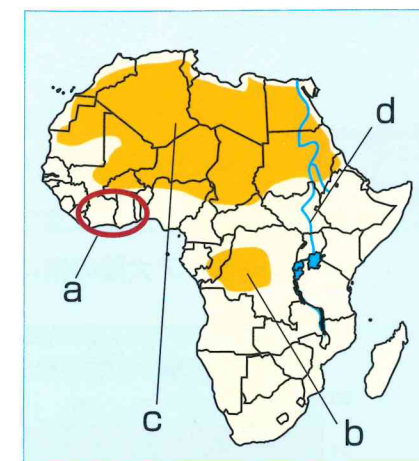
(各6点)

- (1) 次の各文にあてはまる場所を、地図中のa～cから選び、記号で答えなさい。

- ① カカオ栽培がさかんなギニア湾沿岸の地域。
② 世界最大のサハラ砂漠がある地域。
③ 熱帯雨林が広がるコンゴ盆地。

- (2) dの世界最長の川を何といいますか。

- (3) 南アフリカ共和国で長い間行われていた、黒人を差別する人種隔離政策を何といいますか。



/30点

(1)	①		②		③	
(2)				(3)		

4 次の問いに答えましょう。

(各6点)

- (1) アメリカ合衆国で近年増えている、スペイン語を話す移民のことを何といいますか。

- (2) 次の①～③の文にあてはまる場所を、右の地図中a～cから選び、答えなさい。

- ① めぐまれた鉱産資源で初期に工業が発展した、五つの湖がある地域。
② 現在の工業の発展の中心である、北緯37度より南の地域。
③ コンピュータ関連産業の中心地がある地域。



/24点

(1)		(2)	①		②		③	
-----	--	-----	---	--	---	--	---	--

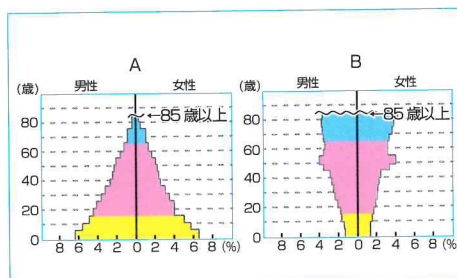
確認のテスト

第5章
世界と比べた日本のすがた①
点 / 100点

1 右の人口ピラミッドのグラフを見て、次の問いに答えましょう。(各9点)

- (1) Aのグラフが表す人口の特徴にあてはまるものを、次のア～ウから一つ選び、記号で答えなさい。

- ア 人口が減少している
イ 人口が増加している
ウ 死亡率が低い



- (2) Bのグラフのように、高齢者人口の割合が高くなることを、何といいますか。

- (3) 発展途上国に多く見られるグラフの形は、A・Bのどちらですか。

- (4) 現在の日本の人口構成に近いグラフは、A・Bのどちらですか。

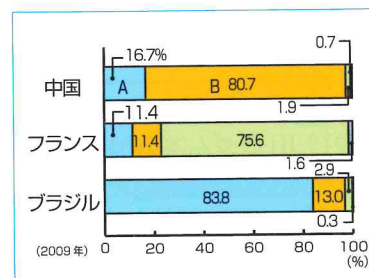
/36点

(1)		(2)		(3)		(4)	
-----	--	-----	--	-----	--	-----	--

2 右のおもな国の発電量のうちわけのグラフを見て、次の問いに答えましょう。(各8点)

- (1) Aの発電所が日本で多くつくられている地域を、次のア～ウから一つ選び、記号で答えなさい。

- ア 都市近くの海岸
イ 山間部
ウ 都市からはなれた海岸



- (2) Bの発電方法を答えなさい。

/16点

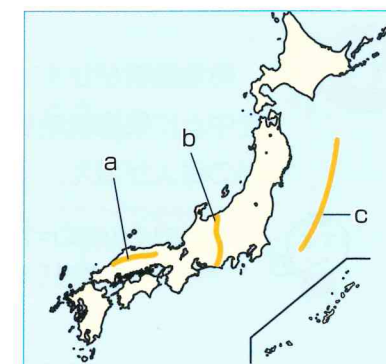
(1)		(2)	発電
-----	--	-----	----

3 次の文を読み、あとの問いに答えましょう。(各8点)

日本は①環太平洋造山帯に位置する島国で、②フォッサマグナを境に広がる山地が国土7割以上を占めているため、河川は距離がAく、流れがBなものが多い。

- (1) 下線部①の環太平洋造山帯にふくまれない山脈を、次のア～ウから一つ選び、記号で答えなさい。

- ア ロッキー山脈
イ ヒマラヤ山脈
ウ アンデス山脈



- (2) 下線部②のフォッサマグナの位置として正しいものを、右の地図中のa～cから一つ選び、記号で答えなさい。

- (3) 文中のA・Bにあてはまる語句の組み合わせとして正しいものを、次のア～エから一つ選び、記号で答えなさい。

- ア A—長, B—ゆるやか
イ A—長, B—急
ウ A—短, B—ゆるやか
エ A—短, B—急

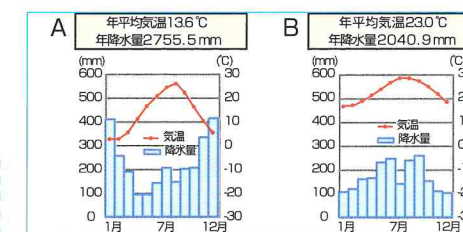
/24点

(1)		(2)		(3)	
-----	--	-----	--	-----	--

4 次の問いに答えましょう。(各8点)

- (1) 右のA・Bの雨温図が表す気候にあてはまるものを、次のア～エからそれぞれ一つずつ選び、記号で答えなさい。

- ア 日本海側の気候
イ 北海道の気候
ウ 中央高地の気候
エ 南西諸島の気候



- (2) 季節によって風向きが変わる風を、カタカナで何といいますか。

/24点

(1)	A	B	(2)	
-----	---	---	-----	--

確認のテスト

第5章
世界と比べた日本のすがた②
点 / 100点

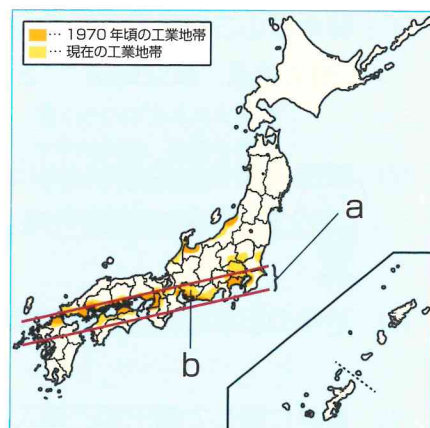
1 右の地図を見て、次の問いに答えましょう。

(各8点)

(1) 地図中のaは、工業地域が集まる帯状の地域です。これを何といいますか。

(2) 地図中のbにあてはまるものを、次のア～エから一つ選び、記号で答えなさい。

- ア 中京工業地帯 イ 阪神工業地帯
ウ 京浜工業地帯 エ 北九州工業地域



(3) かつて日本で主流であった原料を輸入して製品をつくり、できた製品を輸出する貿易を、何といいますか。

/24点

(1)	(2)	(3)
-----	-----	-----

2 次の問いに答えましょう。

(各7点)

(1) 右のグラフのaにあてはまるものを、次のア～ウから選び、記号で答えなさい。

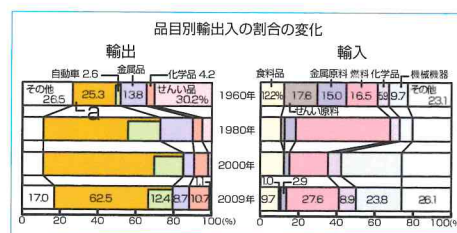
- [ア 食料品 イ 機械機器 ウ 石油]

(2) 日本の貿易のさい、軽く小さなものや食料品などの新鮮さが求められるものを運ぶときに有利な輸送方法を答えなさい。

(3) 日本の貿易のさい、鉱産資源や自動車などの重くて大きなものを運ぶときに有利な輸送方法を答えなさい。

/21点

(1)	(2)	(3)
-----	-----	-----



3 右の図を見て、次の問いに答えましょう。

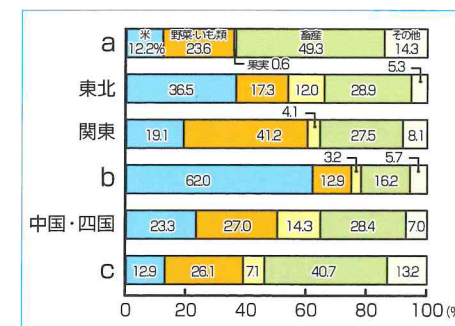
(各6点)

(1) 図のa～cにあてはまるものを、次のア～ウからそれぞれ一つずつ選び、記号で答えなさい。

- [ア 九州 イ 北陸 ウ 北海道]

(2) 暖かい地域で行われている、作物の生長を早めて栽培することを何といいますか。

(3) 涼しい地域で行われている、作物の生長をおくらせて栽培することを何といいますか。

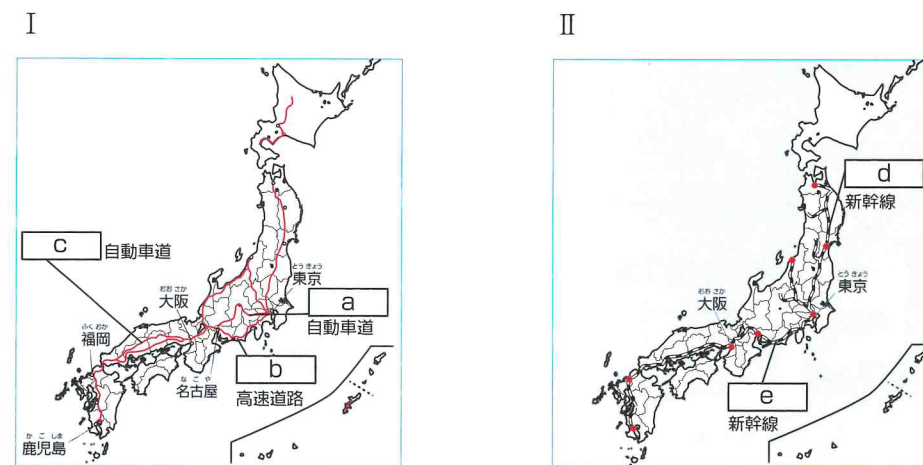


/30点

(1)	a	b	c
(2)	(3)		

4 次のI・IIの地図を見て、a～eにあてはまるものを、下のア～オからそれぞれ一つずつ選び、記号で答えましょう。

(各5点)



- ア 東名 イ 中央 ウ 中国 エ 東海道 オ 東北

/25点

a	b	c	d	e
---	---	---	---	---

確認のテスト

第6章
日本の諸地域①

点 / 100点

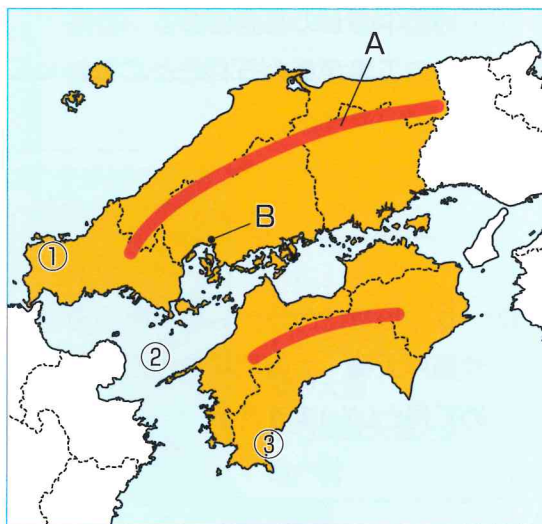
1 右の地図を見て、次の問いに答えましょう。

(各6点)

(1) 地図中のAの山地を何といいますか。

(2) 次のア～ウのうち、Bの広島市について述べた文として正しくないものを一つ選び、記号で答えなさい。

- ア 中国・四国地方における地方
中枢都市である。
イ 世界で最初に原子爆弾が投下
された。
ウ 人口の流出による過疎化に悩
まされている。



(3) 地図中の①～③のうち、冬にもっとも多くの雪が降る地域はどこですか。

(4) ②の沿岸部に広がる工業地域を何といいますか。

(5) ③の地域でかつてよく行われていた、1年間に同じ耕地で同じ作物を2回栽培することを何といいますか。

(6) ①～③の地域とその名称の組み合わせが正しいものを、次のア～エから一つ選び、記号で答えなさい。

- ア ①山陽 ②北四国 ③山陰 イ ①山陰 ②瀬戸内 ③南四国
ウ ①瀬戸内 ②山陰 ③南四国 エ ①山陽 ②北四国 ③南瀬戸

/36点

(1)	山地	(2)		(3)		(4)	工業地域
(5)		(6)					

2 右の地図を見て、次の問いに答えましょう。

(各8点)

(1) 地図中のAの工業地域を何といいますか。

(2) Bについて次の問いに答えなさい。

① Bの火山を、次のア～エから一つ選び、記号で答えなさい。

- ア 雲仙岳 イ 阿蘇山
ウ 普賢岳 エ 霧島山

② Bにある、火山が噴火したあとにできたくぼ地のことを何といいますか。

(3) Cで起きた公害病を次のア～ウから一つ選び、記号で答えなさい。

- 〔ア イタイタイ病 イ 四日市ぜんそく ウ 水俣病〕

(4) Dにある工場では、集積回路の生産がさかんです。この集積回路のことを、アルファベットで何といいますか。次のア～エから一つ選び、記号で答えなさい。

- 〔ア IC イ IT ウ AI エ CI〕

(5) 大型のビニルハウスを使い、ピーマンなどの促成栽培がさかんな地域としてもっともあてはまるものを、地図中のA～Dの中から一つ選び、記号で答えなさい。

(6) 九州南部にある、火山灰などがふりつもってきた台地を何といいますか。

(7) (6)の地域で現在もさかんな産業を、次のア～エから一つ選び、記号で答えなさい。

- ア 棚田による観光業 イ 石炭業
ウ 畜産業 エ さとうきび栽培

/64点

(1)	工業地域			(2)	①	②	(3)
(4)	(5)	(6)	台地		(7)		

確認のテスト

第6章
日本の諸地域②

点/100点

1 右の地図を見て、次の問いに答えましょう。

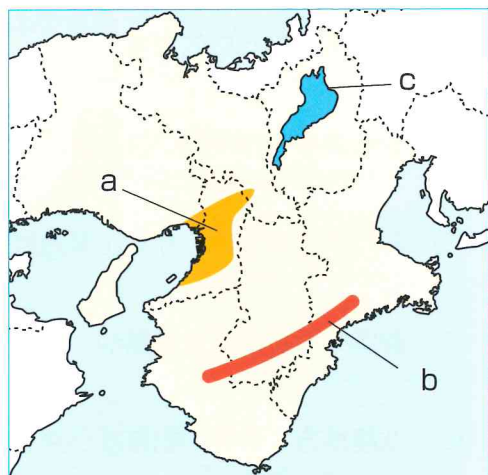
(各6点)

(1) 地図中のaの平野を、次のア～ウから一つ選び、記号で答えなさい。

ア 関東 イ 大阪 ウ 讃岐

(2) 大阪を中心に、京都や神戸に広がる工業地帯を、次のア～ウから選び、記号で答えなさい。

ア 阪神 イ 京浜 ウ 瀬戸内



(3) bの山地を何といいますか。

(4) bの山地でさかんに行われているものを次のア～エから一つ選び、記号で答えなさい。

ア 重化学工業 イ 林業 ウ 畜産業 エ 製糸業

(5) cの湖を何といいますか。

(6) 大阪は、江戸時代から商業が発展し、「天下の□」と呼ばれました。□にあてはまる語句を答えなさい。

/36点

(1)	(2)	(3)	山地	
(4)	(5)	湖	(6)	

2 右の地図を見て、次の問いに答えましょう。

(各8点)

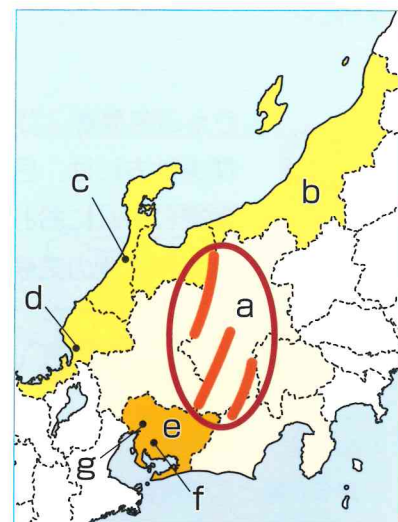
(1) 地図中のaには三つの山脈が連なっています。これを何といいますか。

(2) bの北陸地方でもっともさかんにつくられている作物を次のア～ウから一つ選び、記号で答えなさい。

ア 米 イ 小麦 ウ なし

(3) cの金沢市とdの鯖江市の地場産業にあてはまるものを、次のア～オからそれぞれ一つずつ選び、記号で答えなさい。

ア 金物 イ 加賀友禅 ウ 九谷焼 エ 売薬 オ 眼鏡枠



(4) eの県を中心に広がっている工業地帯を何といいますか。

(5) fの愛知県豊田市で生産がさかんなものを次のア～ウから一つ選び、記号で答えなさい。

ア 楽器 イ 自動車 ウ 造船

(6) gの都市を中心に発展した地域のことを「□大都市圏」といいます。□にあてはまる語句を答えなさい。

(7) 静岡県で栽培がさかんなものを、次のア～ウから一つ選び、記号で答えなさい。

ア りんご イ 茶 ウ コーヒー

/64点

(1)	(2)	(3) c	d	
(4) 工業地帯	(5)	(6)	(7)	

確認のテスト

第6章
日本の諸地域③

点/100点

1 右の地図を見て、次の問いに答えましょう。

(各6点)

(1) 東北地方の太平洋側で、夏にふく冷たい北東の風を何といいますか。

(2) 地図中のaの山脈を何といいますか。

(3) bには、黒潮と親潮がぶつかる□(潮境)があります。□にあてはまる語句を答えなさい。

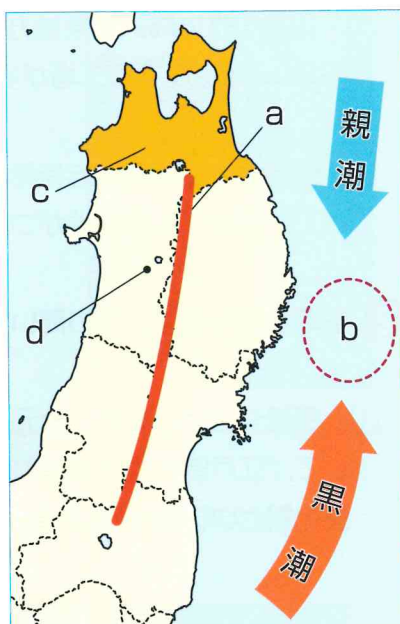
(4) 地図中のcの青森県で栽培がさかんな農産物を、次のア～ウから一つ選び、記号で答えなさい。

ア みかん イ お茶 ウ りんご

(5) 地図中のdの、江戸時代の武家屋敷のようすや古くからの町なみが今も残る場所はどこですか。次のア～ウから一つ選び、記号で答えなさい。

ア 仙台 イ 角館 ウ 八戸

(6) 東北地方のこけしや漆器など、地元で手に入るものを材料にして、江戸時代やそれ以前からつくられている工芸品を何といいますか。



2 次の問いに答えましょう。

(各8点)

(1) 関東平野をおおっている、火山灰がふりつもってきた地層を何といいますか。

(2) 千葉県などの大消費地に近い地域で、大都市向けに野菜や牛乳などを生産する農業を何といいますか。ア～ウから一つ選び、記号で答えなさい。

ア 近郊農業 イ 混合農業 ウ 焼畑農業

(3) 群馬県の山間部で生産がさかんなものを次のア～ウから一つ選び、記号で答えなさい。

ア さとうきび イ キャベツ ウ ピーマン

(4) 右の地図中のAの川を何といいますか。

(5) 次の工業地帯・工業地域を地図中のa～cからそれぞれ一つずつ選び、記号で答えなさい。

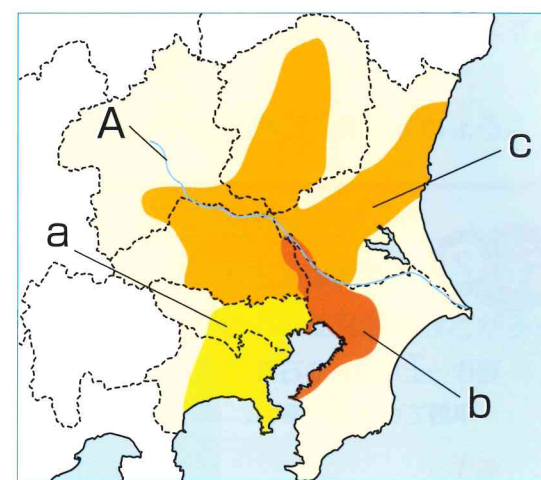
①京浜工業地帯 ②北関東工業地域

(6) 東京都心部から放射状に広がり、横浜、川崎など多くの都市がふくまれる都市圏のことを何といいますか。

(7) 東京などの大都市で起きている、ごみの増加や環境汚染、騒音などのさまざまな問題をあらわす語句をア～ウから一つ選び、記号で答えなさい。

ア 都市問題 イ 過疎化 ウ ドーナツ化現象

/64点



(1)		(2)	山脈	(3)	
(4)		(5)		(6)	

/36点

(1)		(2)		(3)		(4)	川
(5)	①		②		(6)		(7)

確認のテスト

第6章
日本の諸地域④

点/100点

1 右の地図を見て、次の問いに答えましょう。

(各8点)

(1) 地図中のA, Bの平野名をそれぞれ書きなさい。

(2) Aの平野では畑作がさかんです。代表的な作物を次のア～ウから一つ選び、記号で答えなさい。

ア てんさい イ さつまいも
ウ 茶

(3) Bの平野で生産がさかんなものを次のア～ウから一つ選び、記号で答えなさい。

ア 牛乳 イ 米 ウ ピーマン

(4) Cは、北海道の道庁があり、北海道の人口の約3分の1が集中する政令指定都市です。Cの都市名を答えなさい。

(5) 次の①～③を、地図中のa～eからそれぞれ一つずつ選び、記号で答えなさい。

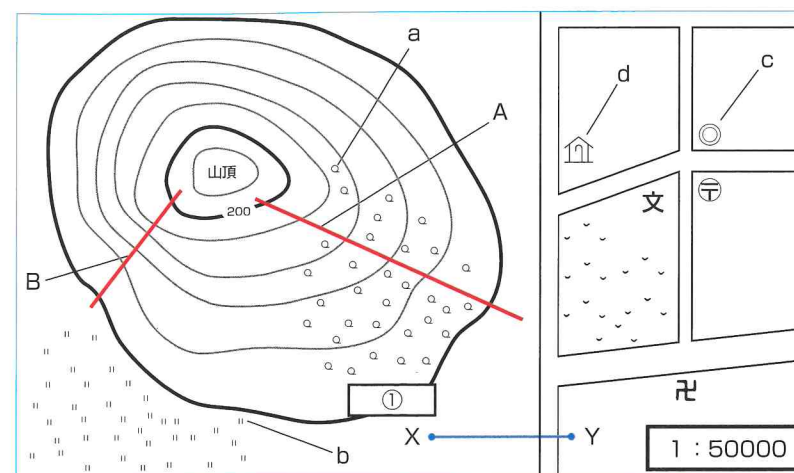
- ① ラムサール条約に登録された釧路湿原
- ② 世界自然遺産に登録された知床半島
- ③ 製紙・パルプ工業がさかんな苫小牧

/64点

(1)	A	平野	B	平野	(2)	(3)
(4)		(5)	①	②	③	

2 地形図を見て、次の問いに答えましょう。

(各4点)



(1) a～dの地図記号が表しているものを、ア～オからそれぞれ一つずつ選び、記号で答えなさい。

ア 広葉樹林 イ 市役所 ウ 水田 エ 老人ホーム オ 図書館

(2) この地図の縮尺を〇〇分の1の形で答えなさい。

(3) 山頂からみて、dはどの方位にあるか、答えなさい。

(4) 山の斜面A, Bでは、どちらの方がゆるやかか、記号で答えなさい。

(5) 地図中の①に入る数字をア～ウから一つ選び、記号で答えなさい。

ア 100 イ 250 ウ 150

(6) 地図上でX—Yは2cmでした。XとYの実際の距離は何kmですか。

/36点

(1)	a	b	c	d	(2)	分の1
(3)		(4)		(5)	(6)	km

確認のテスト

第1章
文明のおこりと日本

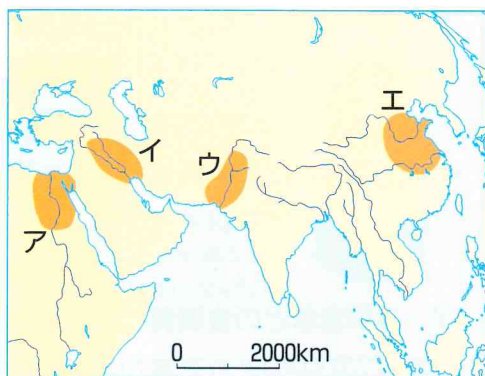
点 / 100点

1 右の地図を見て、次の問いに答えましょう。

(各5点)

(1) 次の各文にあてはまる地域を地図中のア～エから選び、記号で答えなさい。

- ① チグリス川・ユーフラテス川流域に文明がおこり、くさび形文字が使われた。
- ② ナイル川流域に文明がおこり、国王の墓として巨大なピラミッドがつくられた。
- ③ うらないの結果を亀の甲や牛の骨に刻んだ甲骨文字が使われた。
- ④ インダス川のほとりで、モヘンジョ・ダロの都市を中心に文明が生まれた。



(2) 地図中のエの地域で、紀元前1600年ごろに生まれた国を何といいますか。

(3) 中国の漢の時代、ローマ帝国と結ばれ、馬やぶどう・仏教などが伝えられた道すじを何といいますか。

/30点

(1)	①			②			③			④		
(2)				(3)								

2 次の問いに答えましょう。

(各5点)

(1) 縄文時代の人々が、豊かな生産をいのってつくった土製の人形を何といいますか。

(2) 縄文時代の人々は地面を少し掘り、柱を立てて屋根をふいた住居に集団で住みました。この住居を何といいますか。

/10点

(1)				(2)			
-----	--	--	--	-----	--	--	--

3 右のA～Cの写真を見て、次の問いに答えましょう。

(各6点)

(1) ① 写真Aは、何というものですか。

② Aは、どんなところに置かれたか。次の[]から選び、記号で答えなさい。

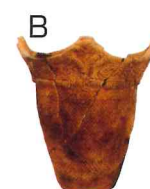
ア 水田の中心 イ 大王の館 ウ 古墳の周囲



(2) ① Bは、何というものですか。

② Bと同じ時代のものを右の[]から選び、記号で答えなさい。

ア 銅剣 イ 土偶 ウ 漢字



(3) ① Cは、何というものですか。

② Cや銅剣・銅鏡などの金属器を、まとめて何といいますか。

(4) A～Cのうち、日本で稲作が広まったのとはほぼ同じ時代のものはどれですか。記号で答えなさい。

/42点

(1)	①			②			(2)	①			②	
(3)	①			②			(4)					

4 次の問いに答えましょう。

(各6点)

(1) ① 右の史料の[]にあてはまる人物の名前を答えなさい。

② 右の史料は、中国の何という国の歴史書の一部ですか。次の[]から選び、記号で答えなさい。

[ア 殷 イ 秦 ウ 漢 エ 魏 オ 倭]

邪馬台国にはもともと男の王がいたが、国内が乱れたので、女子を王に立てた。名を[]という。(部分要約)

(2) 古墳時代、朝鮮半島から日本列島に移り住んだ人々が、土木技術や仏教、漢字などを伝えました。この人々を何といいますか。

/18点

(1)	①			②			(2)			
-----	---	--	--	---	--	--	-----	--	--	--

確認のテスト

第2章
古代国家の歩み

点 / 100点

1 右の史料を見て、次の問いに答えましょう。

(各6点)

- (1) この史料を何といいますか。[]から選び、記号で答えなさい。

ア 冠位十二階
イ 大宝律令
ウ 十七条の憲法

一に曰く、和をもって貴しとなし、さからうことなきを宗とせよ。
二に曰く、あつく三宝を敬え。
三宝とは仏法僧なり。

- (2) (1)を定めた人はだれですか。
- (3) (2)は、中国の進んだ制度を取り入れようと、小野妹子らを中国に派遣しました。この使者を何といいますか。

- (4) (2)が飛鳥地方に建てた寺を[]から選び、記号で答えなさい。

ア 延暦寺
イ 国分寺
ウ 法隆寺

- (5) 645年、蘇我氏を倒して新しい政治のしくみをつくる改革が行われました。

- ① この改革を何といいますか。
- ② この改革を行い、のちに天智天皇になった人はだれですか。

/36点

(1)	(2)	(3)
(4)	(5) ①	②

2 次の問いに答えましょう。

(各6点)

- (1) 6歳以上の農民に口分田を与え、死ねば国に返させる制度を何といいますか。

- (2) 口分田の収穫に応じて納める税を何といいますか。[]から選び、

/12点

記号で答えなさい。

ア 租
イ 調
ウ 庸

(1)	(2)
-----	-----

3 右の年表を見て、問いに答えましょう。

(各4点)

- (1) A・Bにあてはまる都の名前を書きなさい。

- (2) 都がA京だった時代を何時代とといいますか。

- (3) 聖武天皇は、仏教の力によって国を治めようと、都に寺を建てました。何という寺ですか。

- (4) (3)を建てたのは、年表中のどの時期ですか。ア～ウの記号で答えなさい。

- (5) 摂関政治の全盛期を築き、右下の歌をよんだ人はだれですか。

- (6) 摂関政治のころに栄えた日本風の文化について、

- ① この文化を何といいますか。
- ② このころ、「源氏物語」を著したのはだれですか。

この世をば
わが世とぞ思う 望月の
欠けたることも
無しと思えば

- (7) 摂関政治が行われたのは、年表中のどの時期ですか。ア～ウの記号で答えなさい。

- (8) 墾田永年私財法が出されて、貴族や寺院が増やした私有地を何といいますか。

- (9) 墾田永年私財法が出されたのは、年表中のどの時期ですか。ア～ウの記号で答えなさい。



- (10) 右の写真の建物を何といいますか。

- (11) この建物が建てられたころに広まった信仰を何といいますか。

/52点

(1) A	京	B	京	(2)	時代
(3)	(4)	(5)			
(6) ①	(7)	②			
(8)	(9)	(10)		(11)	

確認のテスト

第3章
武家政治の成立と中世の社会
点 / 100点

1 右の年表と史料を見て、次の問いに答えましょう。

(各4点)

(1) A・B にあてはまる人物名を書きなさい。

(2) C にあてはまる語句を[]から選び、記号で答えなさい。

ア 壬申 イ 承久 ウ 応仁

(3) C の乱後を何時代といますか。

(4) 年表中のbの時期、幕府はどこにありましたか。

(5) 右の史料は、何というできごとを描いたものですか。



(6) 右のできごとがあったのは、いつですか。年表中のa～dの記号で答えなさい。

(7) 武士で初めて太政大臣の地位についたのはだれですか。

(8) (7)が実権をにぎっていたのはいつですか。年表中のa～dの記号で答えなさい。

(9) 次の①～③の時期はいつですか。年表中のa～dの記号で答えなさい。

① 戦国大名が分国法をつくる。 ② 後白河上皇が院政を行う。

③ 朝廷が南北二つに分かれて争う。

/48点

(1)	A		B	(2)	
(3)		(4)		(5)	
(6)		(7)		(8)	
(9)	①		②		③

2 右の図を見て、問いに答えましょう。

(各4点)

(1) 右の札は貿易に用いたものです。何といますか。

(2) この札を用いた貿易を始めた将軍はだれですか。

(3) この札を用いていたころの中国の国名を[]から選び、記号で答えなさい。

[ア 唐 イ 宋 ウ 元 エ 明]

/12点

(1)		(2)		(3)	
-----	--	-----	--	-----	--

3 次の問いに答えましょう。

(各5点)

(1) ①の像について、①この像を何といますか。また、②この像の作者を下の[]から選び、記号で答えなさい。



(2) ②の建物について、①この建物を何といますか。また、②この建物を建てた人物を下の[]から選び、記号で答えなさい。



(3) 鎌倉時代のものはどちらですか。①・②の記号で答えなさい。

(4) 室町時代、土倉や酒屋などをおそい、借金の帳消しなどを求めて起こした、農民たちの抵抗を何といますか。

(5) 次の①・②にあたる人物を右の[]から選び、記号で答えなさい。

ア 運慶 イ 観阿弥 ウ 足利尊氏
エ 日蓮 オ 親鸞 カ 足利義政

① 浄土真宗を始めた僧。

② 能(能楽)を大成した人物。

/40点

(1)	①		②		(2)	①		②	
(3)		(4)		(5)	①		②		

確認のテスト

第4章
ヨーロッパの動きと天下統一
点 / 100点

1 次のA～Cの□にあてはまる人物名を書き、あとの問いに答えましょう。

(各5点)

- A インドを目指した□は、大西洋を横断し、カリブ海の西インド諸島に到達した。
B カトリック教会の腐敗を、ドイツ人の□が批判した。
C □は、アフリカ大陸の南端にある喜望峰を回ってインドに到達した。

(1) Aの数十年後、南北アメリカを植民地にしていった国を下の□から選び、記号で答えなさい。

ア イギリス イ スペイン ウ ポルトガル

(2) Bのできごとから始まった動きを何といますか。

/25点

A	B	C
(1)	(2)	

2 下の年表を見て、問いに答えましょう。

(各6点)

年	できごと
1543	種子島に□Aが伝わる
1549	ザビエルが□Bを伝える

(1) 年表中の□A・□Bにあてはまる語句を書きなさい。

(2) □Aを伝えたのはどこの国の人ですか。

(3) ザビエルは□Bの何という会の宣教師でしたか。

(4) 室町幕府が滅んだ時期を年表中のA～ウから選び、記号で答えなさい。

/30点

(1)	A	B	
(2)		(3)	(4)

3 次の問いに答えましょう。

(各5点)

(1) 右の絵は、何という戦いを描いたものですか。


(2) この戦いで、徳川家康と連合し、大量の鉄砲を活用して勝利した戦国大名はだれですか。

(3) (2)が城下で行った政策を何といますか。

(4) (2)のあとを継ぎ、右の命令を出した人物はだれですか。

(5) (4)は、全国の田畑の面積や土地のよしあしを調べました。この政策を何といますか。

(6) 明の征服を目指した(4)が、2度にわたって大軍を送った国はどこですか。



諸国の百姓が刀やわきざし、弓、やり、鉄砲、そのほかの武器などを持つことは、固く禁止する。
(一部要約)

(1)	(2)	(3)
(4)	(5)	(6)

/30点

4 次の問いに答えましょう。

(各5点)

(1) 右の絵を描いた人物を□から選び、記号で答えなさい。

ア 運慶 イ 狩野永徳
ウ 雪舟 エ 出雲の阿国

(2) 右の絵に代表される、安土桃山時代の文化を何といますか。

(3) 茶の湯をわび茶の作法として完成させた人物はだれですか。



(1)	(2)	(3)
-----	-----	-----

/15点

確認のテスト

第5章
近世日本の動き①

点 /100点

1 下の年表を見て、次の問いに答えましょう。

(各5点)

年	できごと
1600	a A の戦い
1637	b B 一揆
	c

(1) 年表中の A・B にあてはまる地名を から選び、記号で答えなさい。

ア 安土・桃山	イ 関ヶ原
ウ 島原・天草	エ 長篠

(2) A の戦いに勝ち、江戸幕府を開いたのはだれですか。

(3) 江戸時代、(2)の一族の大名を右の から選び、記号で答えなさい。

ア 親藩	イ 譜代大名	ウ 外様大名
------	--------	--------

(4) 年表中の b の時期、幕府は大名を統制するために、右のような法律を定めました。この法律を何といいますか。

(5) 史料中の下線部の制度を何といいますか。

(6) 年表中の B 一揆を起こした人たちの多くは、何という宗教を信仰していましたか。

(7) (6)の信者を発見するために右の像を踏ませた方法を何といいますか。



(8) 幕府は、 商館を長崎の出島に移して鎖国を完成させました。

① にあてはまる国名を答えなさい。

② 鎖国を完成させたのは、年表中の a～c のどの時期ですか。記号で答えなさい。

/50点

(1) A	B	(2)	(3)
(4)	(5)	(6)	
(7)	(8) ①	②	

2 次の問いに答えましょう。

(各4点)

(1) 次の文の にあてはまる語句を から選び、記号で答えなさい。

① 江戸時代には、土を深く耕すことのできる など、農具の改良が行われ、農業が発達しました。

② 農村では、麻やわた、あぶらな・茶など、 の栽培が広まりました。

③ 都市では、大商人が という同業者組合をつくり、営業を独占するようになりました。

④ は五街道の一つで、江戸と京都を結んでいました。

ア 座	イ 商品作物
ウ 中山道	エ 東海道
オ 株仲間	カ 千歯こき
キ 二毛作	ク 備中ぐわ

(2) 江戸時代、大阪は「天下の台所」と呼ばれ、諸藩は大阪に米や特産物を保管する倉庫を置きました。この倉庫を何といいますか。

/20点

(1) ①	②	③	④	(2)
-------	---	---	---	-----

3 下の文を読んで、あとの問いに答えましょう。

(各5点)

● 5代将軍 A 徳川綱吉のころ、B 上方で町人を担い手とする文化が栄えました。

(1) 下線部 A が出した、極端な動物愛護令を何といいますか。

(2) 下線部 B の文化を何といいますか。

(3) 右の美人画など、町人の風俗を描いた絵を何といいますか。



(4) (2)の文化を代表する人として、①人形浄瑠璃の台本を書いた人、②俳諧(俳句)を発展させた人、③右の美人画を描いた人をそれぞれ右の から選び、記号で答えなさい。

ア 井原西鶴	イ 近松門左衛門
ウ 菱川師宣	エ 松尾芭蕉

/30点

(1)	(2)	(3)
(4) ①	②	③

確認のテスト

第5章
近世日本の動き②

点 / 100点

1 下の年表を見て、次の問いに答えましょう。

(各4点)

年	できごと
1716	a A の改革が始まる
1787	b B の改革が始まる
1841	c C の改革が始まる
	d

(1) 18世紀になり、生活に困った人々が起こした行動のうち、①都市の人々が米屋などを襲うこと、②農村で農民が年貢の軽減などを求めてたち上がることを、それぞれ何といいますか。

(2) 年表中の A ～ C にあてはまる年号を□から選び、記号で答えなさい。

ア 寛政 イ 天明
ウ 天保 エ 享保

(3) A の改革について、

- ① この改革を行った将軍はだれですか。
- ② この改革で行われたことを右の□から二つ選び、記号で答えなさい。

《改革の内容》

ア 旗本・御家人の札差からの借金を帳消しにした。
イ 異国(外国)船打払令を出した。
ウ 公事方御定書を定めた。
エ 伊能忠敬に日本地図の作成を命じた。
オ 株仲間の解散を命じた。
カ 目安箱を設置した。

(4) B の改革について、

- ① この改革を行った老中はだれですか。
- ② この改革で行われたことを右の□から選び、記号で答えなさい。

(5) C の改革について、

- ① この改革を行った老中はだれですか。
- ② この改革で行われたことを上の□から選び、記号で答えなさい。

(6) A ～ C の三つの改革に共通して命じたことは、質素と何ですか。漢字2字で答えなさい。

(7) 貧しい人々を救おうと、大阪で乱を起こした元町奉行所の役人はだれですか。また、このできごとが起こった時期を年表中の a ～ d から選び、記号で答えなさい。

(8) 株仲間を公認し、長崎貿易を奨励した老中はだれですか。またこの人が老中だった時期を年表中の a ～ d から選び、記号で答えなさい。

/68点

(1)	①		②		(2)	A	B	C
(3)	①		②		(4)	①		②
(5)	①		②		(6)			
(7)					(8)			


2 次の問いに答えましょう。

(各4点)

(1) 右の I について、


- ① これは、何という本の表紙絵ですか。
- ② この本を著した人を下の□から二人選び、記号で答えなさい。

ア 千利休 イ 前野良沢 ウ 本居宣長 エ 杉田玄白



③ この本と関係の深い学問を下の□から選び、記号で答えなさい。

ア 国学 イ 朱子学 ウ 蘭学



(2) 化政文化について、

- ① 右の II のような絵を何といいますか。下の□から選び、記号で答えなさい。

ア 障壁画 イ 水墨画 ウ 錦絵

② II を描いたのはだれですか。

- ③ このころ、十返舎一九が書いた作品を右の□から選び、記号で答えなさい。

ア 富嶽三十六景 イ 南総里見八犬伝
ウ 東海道五十三次 エ 東海道中膝栗毛

(3) 庶民に読み・書き・そろばんを教えた学校を何といいますか。

/32点

(1)	①		②		③	
(2)	①		②		③	(3)

確認のテスト

第6章
近代日本の成立と世界の動き

点/100点

1 次の問いに答えましょう。

(各2点)

(1) 次の文にあてはまる革命と、革命後に下された宣言を下の〔 〕から選び、記号で答えなさい。

- ① 1688年、イギリスで議会在國王を追放し、イギリスの絶対王政が終った。
- ② 18世紀後半、アメリカで本国からの独立を求めて起こした。
- ③ 1789年、フランスで絶対王政からの解放を求めて起こした。

〔 ア ピューリタン革命 イ 名誉革命 ウ 独立戦争 エ フランス革命
オ 人権宣言 カ 解体新書 キ 権利章典 ク 独立宣言 〕

(2) 18世紀後半、工業技術が向上し、産業と社会のしくみが大きく変化しました。

- ① このことを何といいますか。
- ② ①が最初に始まった国はどこですか。

/16点

(1)	①		②		③	
(2)	①		②			

2 次の問いに答えましょう。

(各4点)

- (1) 右の人物について、① この人物名を答えなさい。
- ② この人物が幕府と結んだ条約名を答えなさい。



(2) 1858年にアメリカと結んだ条約名を答えなさい。また、この条約の不平等な内容について、下の①・②にあてはまる語句を書きなさい。

- 日本に ① 権がなく、アメリカの ② 権を認めた。

/20点

(1)	①		②	条約
(2)		条約	①	②

3 右の年表を見て、次の問いに答えましょう。

(各4点)

- (1) 年表中の A・C・D にあてはまる語句を右の〔 〕から選び、記号で答えなさい。

ア 日清 イ 西南
ウ 日露 エ 戊辰

年	できごと
1868	a A 戦争が始まる 明治維新が始まる
1889	b B 憲法公布
1894	c C 戦争が始まる
1904	d D 戦争が始まる e

- (2) B にあてはまる語句を書きなさい。
- (3) B 憲法の草案を中心になって作成した人物はだれですか。

- (4) C 戦争・D 戦争の講和条約を、それぞれ何といいますか。



- (5) C 戦争後、三国干渉で日本が清に返還したのは、右の地図中のア～オのどこですか。記号で答えなさい。

- (6) 明治維新の三大改革を下の〔 〕から三つ選び、記号で答えなさい。

ア 文明開化 イ 徴兵令 ウ 地租改正 エ 内閣制度 オ 学制

- (7) 次の①～⑤は、年表中の a～e のどの時期のできごとですか。記号で答えなさい。

- ① 韓国併合 ② 日英同盟 ③ 辛亥革命 ④ 大政奉還 ⑤ 自由民権運動

- (8) 自由民権運動の高まりのなか、① 自由党、② 立憲改進黨を結成した人物は、それぞれだれですか。

/64点

(1)	A		C		D		(2)	
(3)			(4)	C		条約	D	条約
(5)			(6)					(完答4点)
(7)	①		②		③		④	⑤
(8)	①			②				

確認のテスト

第7章
二度の世界大戦と日本

点 / 100点

1 次の問いに答えましょう。

(各5点)

- (1) 右の地図のXは、第一次世界大戦のきっかけとなる暗殺事件が起こった半島です。何という半島ですか。



- (2) 次の①・②にあてはまる国を地図中のア～オから選び、記号で答えなさい。

- ① 第一次世界大戦中、社会主義を目指す政府が誕生した。
② 三国同盟を結んでいたが離脱し、連合国側で参戦した。

- (3) 第一次世界大戦後、国際平和を守るためにつくられた組織を何といいますか。

- (4) 次の①・②の運動を何といいますか。

- ① 1919年、日本からの独立を求めて朝鮮で起こった運動。
② 1919年、日本の二十一か条の要求への反発から始まり、帝国主義に反対するものへと発展した中国の人たちの運動。

/30点

(1)		(2)	①	②	(3)
(4)	①	運動	②	運動	

2 次の問いに答えましょう。

(各4点)

- (1) 次の①～③にあてはまる人物名を「ア～エ」から選び、記号で答えなさい。

- ① 女性差別からの解放を目指して、雑誌「青鞥」を発刊した。
② 普通選挙によって国民の意向を政治に反映させようと、民本主義を唱えた。
③ 初めて本格的な政党内閣をつくった。

ア 原敬 イ 平塚らいてう
ウ 吉野作造 エ 犬養毅

- (2) 次のア～エの文から正しいものを二つ選び、記号で答えなさい。

- ア 1925年制定の普通選挙法によって、満20歳以上の男子に選挙権が認められた。
イ 大正デモクラシーは、第一次世界大戦のころの動きである。
ウ 小作争議による米価の急騰がきっかけで、米騒動が起こった。
エ 普通選挙法と治安維持法は、同じ年に制定された。

/20点

(1)	①	②	③	(2)	
-----	---	---	---	-----	--

3 右の年表を見て、次の問いに答えましょう。

(各5点)

- (1) 年表中のA～Cにあてはまる語句を書きなさい。

- (2) Aの打開策として、アメリカがとった政策を「ア～エ」から選び、記号で答えなさい。
ア ブロック経済 イ ファシズム
ウ ニューディール政策

年	できごと
1929	A が始まる
1937	B 戦争が始まる
1941	C 戦争が始まる

- (3) 日独伊三国同盟について、

- ① この同盟が結ばれた時期を年表中のa～dから選び、記号で答えなさい。
② 日本がこの同盟を結んだ国を「ア～エ」から二つ選び、記号で答えなさい。
ア イギリス イ ドイツ ウ フランス エ イタリア オ ソ連

- (4) (3)②のイがポーランドに侵攻して始まった戦争を何といいますか。

- (5) 次のア～ウは、年表中のbの時期に起こったできごとです。これを年代の古い順に並べたとき、2番目にくるのはどれですか、記号で答えなさい。

- ア 満州事変が始まる。 イ 二・二六事件が起こる。 ウ 国際連盟を脱退する。

- (6) 日本は、無条件降伏を要求した宣言を受け入れてC戦争が終わりました。この宣言を何といいますか。

/50点

(1)	A	B	C
(2)	(3)	①	②
(4)	(5)	(6)	宣言

確認のテスト

第8章
現代の日本と世界

点 / 100点

1 右の写真を見て、次の問いに答えましょう。

(各5点)

(1) 写真の人物は、GHQ最高司令官です。だれですか。



(2) 戦後の民主化について、次の各文の□にあてはまる語句を〔 〕から選び、記号で答えなさい。

- ① 満20歳以上の□に選挙権が認められた。
② 経済の民主化のために□が解体された。
③ 自作農を増やすために□改革が行われた。

- 〔 ア 財閥 イ 組合
ウ 工場 エ 農地
オ 男子 カ 男女 〕

(3) 1947(昭和22)年5月3日、日本の国の最も基本となる法が施行されました。

- ① この法を何といいますか。
② この法で、主権を持つのはだれですか。
③ この法で、天皇は「日本国及び日本国民統合の□」になりました。□にあてはまる語句を書きなさい。

/35点

(1)		(2)	①	②	③
(3)	①	②	③		

2 次の問いに答えましょう。

(各7点)

(1) 第二次世界大戦後、資本主義国と共産(社会)主義国の対立が激しくなりました。

- ① この対立を何と呼んでいますか。漢字2文字で答えなさい。
② 資本主義国の中心は、どこの国でしたか。

(2) 次の各文が示しているものを次ページの□から選び、記号で答えなさい。

- ① 連合国による占領が終了し、日本は独立を回復した。
② 占領終了後も、日本国内にアメリカ軍の基地を置く。
③ 日本は、韓国政府を朝鮮半島の唯一の政府と認める。

- ア 日中平和友好条約 イ 日韓基本条約 ウ 日ソ共同宣言
エ 日米安全保障条約 オ サンフランシスコ平和条約

/35点

(1)	①	②	
(2)	①	②	③

3 右の年表を見て、次の問いに答えましょう。

(各5点)

(1) 年表中の□にあてはまる国を下の□から選び、記号で答えなさい。

- ア イタリア イ ソ連 ウ ドイツ

(2) 石油危機の原因は何ですか。下の□から選び、記号で答えなさい。

- ア 日中戦争 イ 太平洋戦争 ウ 中東戦争 エ 朝鮮戦争

年	できごと
1973	a 石油危機が起こる
1991	b □が解体 c

(3) 次のことがらは、年表中のどの時期のことですか。a～cの記号で答えなさい。

- ① 日本でバブル景気が崩壊した。 ② 日本の高度経済成長が続いた。

(4) アメリカや日本・ヨーロッパの国々など先進工業国と、アフリカやラテンアメリカなど発展途上国の間には、大きな経済格差や対立があります。この問題を何といいますか。

(5) 地球温暖化が世界的に大きな問題になっています。その主な原因となっているもので、二酸化炭素など大気を暖めるように作用する気体を何といいますか。

/30点

(1)	(2)	(3)	①	②
(4)	問題	(5)		