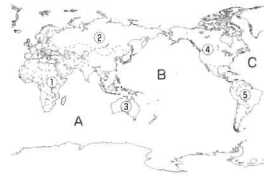


確認のテスト

本文 p.12~13

① 地図を見て、次の問いに答えましょう。(各5点)

- (1) 世界最大の海洋を、右の地図中のA～Cから一つ選び、記号で答えなさい。
- (2) 世界最大の大陸を、地図中の①～⑤から一つ選び、番号で答えなさい。
- (3) ③の大陸は、世界を六つの州に分けたときに何という州に入りますか。



- (4) 地球上の陸地と海洋の面積比を示したものを、右の□から一つ選び、記号で答えなさい。

ア 6 : 4 イ 5 : 5
ウ 4 : 6 エ 3 : 7

(1) **B** (2) **②** (3) **オセアニア州** (4) **エ**

② 次の(1)、(2)の文が述べている地図を、ア～ウの中からそれぞれ一つ選び、記号で答えましょう。(各6点)

- (1) 経線と緯線に対する角度が正しく、航海図に使われる。
- (2) 中心からの距離と方位が正しい。

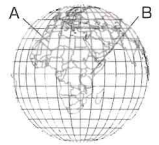


(1) **ウ** (2) **ア**

③ 次の問いに答えましょう。

(各8点)

- (1) 図中のAの0度の経線を何といいますか。



- (2) Aが通っている都市を、下の□から選び、記号で答えなさい。

ア ローマ イ ロンドン
ウ モスクワ エ ニューヨーク

- (3) 図中のBの0度の緯線を何といいますか。

- (4) 気温が一年じゅう高いのは、A・Bのどちら付近ですか。ア～ウから一つ選び、記号で答えなさい。 [ア A イ B ウ どちらでもない]

- (5) 東京の位置を、[] 中の緯度・経度から選んで書きなさい。

北緯36度
南緯36度
西経140度
東経140度

(1) **本初子午線** (2) **イ** (3) **赤道**

(4) **イ** (5) **北緯36度、東経140度**

④ 次の問いに答えましょう。

(各7点)

- (1) 世界で、①面積が最大の国、②人口が最も多い国を、それぞれ答えなさい。



- (2) 右の形の国は、人口が世界で2番目に多い国です。国名を答えなさい。

- (3) 次のア～エのうち、島国を一つ選び、記号で答えなさい。

ア モンゴル
イ パチカン市国
ウ ロシア連邦
エ 日本

(1) ① **ロシア連邦** ② **中国**

(2) **インド** (3) **エ**

わかる! 考え方

- ① (1) 世界最大の海洋は**太平洋**。Aは**インド洋**でCは**大西洋**です。
- (2) アジア、ヨーロッパをふくむ**ユーラシア大陸**が**世界最大の大陸**です。
- (3) 六つの州に分けたとき、オーストラリア大陸はまわりの島々とあわせて、**オセアニア州**とよばれます。
- (4) 地球上の陸地と海洋の面積比は、陸地が**3**に対して海洋が**7**です。
- ② (1) 経線と緯線に対する角度が正しいのは、ウの**メルカトル図法**です。緯線と経線が直角に交わっている図を選びましょう。
- (2) 中心からの距離と方位が正確なのは、アの**正距方位図法**です。中心から離れるほど陸地の形がゆがむ、円の形をした地図を選びましょう。
- ③ (1) 方位を十二支であらわしたとき、「子」は北、「午」は南となるので、南北を結んだ線を**子午線**ともいいます。「本初」は「最初」の意味で、0度から始まる最初の経線、という意味になります。

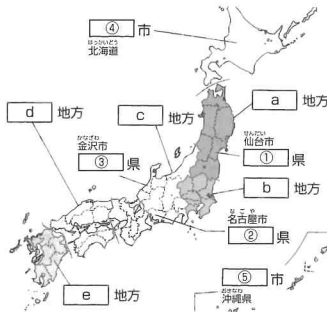
- (2) 経度0度は、当時天体観測のすすんでいたイギリスのロンドンにあった天文台を通る経線とされてきました。
- (3) 0度の緯線を**赤道**といいます。
- (4) 緯度の低い赤道付近は、太陽の光による熱が多く、**一年じゅう気温が高くなります**。
- (5) 日本は北半球の東経に位置しています。
- ④ (1) **面積が最大の国はロシア連邦**で、日本の約45倍の広さがあります。第二位はカナダで、日本の約26倍、第三位はアメリカ合衆国で、日本の約25倍の広さがあります。
- (2) 人口が現在世界第二位の**インド**は、いずれ中国を抜いて第一位になるといわれています。第三位はアメリカ合衆国です。
- (3) 日本は、周りを海に囲まれ、他の国と陸地で接していないので**島国**といえます。

確認のテスト

本文 p.50~51

① 次の地図を見て、下の問いに答えましょう。

(各4点)



(1) 地図中の①～③には県名を、④・⑤には県庁所在地名を、次のア～オからそれぞれ一つずつ選び、記号で答えなさい。

〔ア 石川 イ 宮城 ウ 愛知 エ 札幌 オ 那覇〕

(2) 地図中のa～eにあてはまるものを、次のア～キからそれぞれ一つずつ選び、記号で答えなさい。

ア 近畿 イ 北海道 ウ 東北 エ 関東
オ 中国・四国 カ 九州 キ 中部

(1) ① イ ② ウ ③ ア ④ エ ⑤ オ

(2) a ウ b エ c キ d オ e カ

② 右の図を見て、次の問いに答えましょう。

(各6点)

(1) aは、世界の時刻の基準となる線です。この線を何といいますか。



(2) 1時間の時差が生じるとき、経度は何度変わりますか。次のア～ウから一つ選び、記号で答えなさい。

〔ア 15度 イ 30度 ウ 45度〕

(3) 日本の標準時は、何度の経線を基準にしていますか。次のア～ウから一つ選び、記号で答えなさい。

〔ア 東経135度 イ 東経150度 ウ 西経135度〕

(4) 日本が4月15日午前0時のとき、ロンドンは何月何日の何時ですか。次のア～エから一つ選び、記号で答えなさい。

ア 4月15日午前9時 イ 4月14日正午
ウ 4月15日午後3時 エ 4月14日午後3時

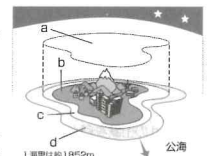
(1) 本初子午線 (2) ア (3) ア (4) エ

③ 右の図を見て、次の問いに答えましょう。

(各7点)

(1) a～cにあてはまる語句を、次のア～ウからそれぞれ一つずつ選び、記号で答えなさい。

〔ア 領土 イ 領空 ウ 領海〕



(2) dの経済水域は、領海の外側で沿岸から何海里以内ですか。次のア～ウから一つ選び、記号で答えなさい。

〔ア 12 イ 200 ウ 300〕

(1) a イ b ア c ウ (2) イ 海里

わかる! 考え方

① (1) ほかに、**県名と県庁所在地名**の異なる県は神奈川県(横浜市)や愛媛県(松山市)、島根県(松江市)などがあります。

(2) 各地方を構成する都道府県をきちんと覚えておきましょう。

北海道地方：北海道

東北地方：青森・秋田・岩手・山形・宮城・福島(6県)

関東地方：東京・千葉・神奈川・埼玉・茨城・栃木・群馬(1都6県)

中部地方：静岡・愛知・山梨・長野・岐阜・

新潟・富山・石川・福井(9県)

近畿地方：大阪・京都・奈良・和歌山・兵庫・三重・滋賀(2府5県)

中国・四国地方：広島・岡山・山口・鳥取・

島根・愛媛・高知・香川・徳島(9県)

九州地方：福岡・大分・宮崎・鹿児島・熊本・

長崎・佐賀・沖縄(8県)

② (1) イギリスの**ロンドン**を通る0度の経線が**本初**

子午線です。これが世界の時刻の基準となります。

(2) $360(\text{度}) \div 24(\text{時間}) = 15(\text{度})$ となります。

(3) 兵庫県の**明石市**を通る**東経135度**が日本の**標準時子午線**です。

(4) 日本(東経135度)とロンドン(0度)の経度の差は135度なので、時差は

$135(\text{度}) \div 15(\text{度}) = 9(\text{時間})$

と求められます。日本の方が時刻が進んでいるので、日本が午前0時のとき、ロンドンは前日の午後3時です。

③ (1) aの**領空**とは、**領土**と**領海**の上空のことをいいます。cの**領海**は、日本では干潮時の海岸線から**12海里**(約22km)以内の範囲とされています。

(2) **経済水域**は沿岸から**200海里**(約370km)以内。島国の日本は、経済水域の面積が国土面積の10倍以上もあります。

確認のテスト

本文 p.20~21

- ① 次の①～⑤の気候帯の説明にあてはまる文章を、下のア～オからそれぞれ選び、記号で答えましょう。(各6点)

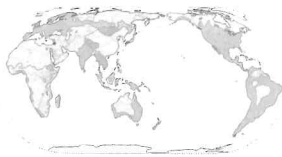
① 寒帯 ② 冷帯(亜寒帯) ③ 温帯 ④ 熱帯 ⑤ 乾燥帯

- ア はっきりとした季節があり、気温や降水量の変化が大きい。
 イ 一年じゅう寒く、植物はほとんど育たない。
 ウ 一年を通して雨がほとんど降らず、乾燥している。
 エ 冬は寒さがきびしく、夏は短い間気温が上がる。
 オ 気温が一年じゅう高く、雨が多い。

① イ ② エ ③ ア ④ オ ⑤ ウ

- ② 次の図を見て、あとの問いに答えましょう。(各8点)

世界の宗教分布
 ■ a
 ■ b
 ■ c
 □ ヒンドゥー教
 □ 道教、儒教、神道、仏教など
 ■ その他の宗教
 ■ ユダヤ教



- (1) a～cにあてはまるものを、下の□からそれぞれ選び、記号で答えなさい。

ア 仏教 イ キリスト教 ウ イスラム教

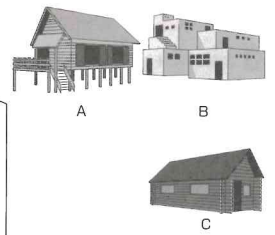
- (2) (1)の三つの宗教は、何とよばれていますか。

(1) a ア b イ c ウ (2) 三大宗教

- ③ 右の図を見て、次の問いに答えましょう。(各6点)

(各6点)

- (1) 図A～Cは、世界のある地域の住居です。それぞれの図の説明としてあてはまるものを、ア～エからそれぞれ選び、記号で答えなさい。



- ア 寒い地域では、雪や氷を使ってつくられた住居が見られる。
 イ 乾燥した地域では、白土しれんがでつくられた住居が見られる。
 ウ 寒い地域では、高床式の住居で湿気や増水にそなえている。
 エ 丸太づくりの住居は、針葉樹林のある冷帯の地域でよく見られる。

- (2) 右の図は、世界のある地域で用いられている衣服です。この図の説明としてあてはまるものを、ア～ウから選び、記号で答えなさい。



- ア 厳しい寒さにたえるための毛皮を使った衣服
 イ 高地などで、強い風をふせぐための衣服
 ウ 暑い日差しをさけるためのゆったりとした衣服

(1) A ウ B イ C エ (2) ウ

- ④ □にあてはまるものを、下の□から選び、記号で答えましょう。(各7点)

- (1) □ …東南アジアなど、雨の比較的多い地域で主食とされる。ご飯などに利用されている。

- (2) □ …ヨーロッパなど、雨の比較的に少ない地域で主食とされる。パンやパスタなどに利用されている。

ア とうもろこし イ 小麦 ウ 米 (1) ウ (2) イ

わかる! 考え方

- ① ① 寒帯は夏でも気温が0℃以下のことが多く、一年を通して気温が非常に低い地域です。
 ② 冷帯(亜寒帯)は、短い夏の間には気温が20℃近くになることがあり、気温の差が大きい気候です。タイガのように、大きな樹木が育つということも寒帯と見分けるポイントです。
 ③ 温帯には、四季の変化があります。
 ④ 熱帯は一年じゅう気温が高い気候です。
 ⑤ 乾燥帯に属する地域では雨がほとんど降りません。
 (2) (1) 仏教は東・東南アジアで広く信仰されています。キリスト教はヨーロッパ、南北アメリカ、イスラム教は西アジア、北アフリカで広く信仰されていると覚えましょう。
 (2) 仏教、キリスト教、イスラム教をまとめて三大宗教とよびます。
 (3) (1) Aは床が高くなっているので高床式の住居について述べているウが正解です。また、暑い地域の住居は窓を大きくとり、風通しをよくしてい

ることも特徴の一つです。B・Cはそれぞれ何が住居の材料に使われているかに注目しましょう。Bの住居の材料に使われる日干しレンガは、土をこねて形をつくり、強い日ざしで乾燥させてつくりま

- (2) 図にある衣服は薄くゆったりした布でできてるように見え、ぶ厚い毛皮を使うアは不適切です。イの高地の衣服はポンチョなどがあてはまります。

- ④ (1) 米は水田でつくり、一定の降水量を必要とします。

- (2) 小麦は、稲がつくられる地域よりも、低温で雨の少ない地域でもつくりことができます。

とうもろこしを主食とする地域は、メキシコやアフリカ南部の国々です。ただし、とうもろこしをつぶのまま食べるのではなく、粉にして、パンのように焼いて食べることが多いです。

確認のテスト

本文 p.30~31

① 右の地図を見て、次の問いに答えましょう。

(各6点)

- (1) 地図中のAの国で多く信仰されているキリスト教の宗派を、下のア～ウから一つ選び、記号で答えなさい。

ア カトリック イ 正教会
ウ プロテスタント



- (2) 次の説明にあてはまる国を、地図中のA～Dからそれぞれ選び、記号で答えなさい。

- ① 乳牛を飼い、チーズやバターを生産する酪農がさかんな国。
② 海岸沿いにフィヨルドとよばれる入り組んだ地形がある国。

- (3) アルプス山脈より南の地域で行われている、冬の間は小麦、夏になるとぶどうやオリーブを栽培する農業のことを何といいますか。

- (4) 地図中にある国の多くは、ヨーロッパの政治的・経済的な結びつきを強めるための組織に加盟しています。その組織の略称をアルファベット2字で答えなさい。

- (5) (4)の組織に加盟している国の中には、共通の通貨を使用している国も多くあります。この共通通貨を何といいますか。

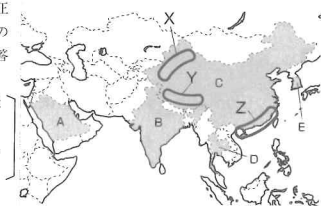
(1) ア (2) ① B ② D (3) 地中海式農業
(4) EU (5) ユーロ

② 右の地図を見て、次の問いに答えましょう。

(各8点)

- (1) 地図中のAの国について、正しく述べていないものを、下のア～エから一つ選び、記号で答えなさい。

ア 人口の大半がイスラム教徒
イ 二期作が行われている
ウ 羊やらくだの遊牧がさかん
エ OPECの加盟国



- (2) Bの国の急速な発展を支えている情報技術産業のことを、略して何産業といいますか。アルファベット2字で答えなさい。

- (3) Cの国で、経済特区が設けられている地域を、地図中のX～Zから一つ選び、記号で答えなさい。

- (4) Dの国が加盟している組織を、下のア～ウから一つ選び、記号で答えなさい。
[ア ASEAN イ ANZUS ウ AU]

- (5) Eの国の正式な名称を、下のア～ウから一つ選び、記号で答えなさい。
[ア 中華人民共和国 イ 朝鮮民主主義人民共和国 ウ 大韓民国]

- (6) 人口について、次の問いに答えなさい。

- ① 人口が世界一の国を、地図中のA～Eから一つ選び、記号で答えなさい。
② ①の国で人口の増加をおさえるためにとられている政策を何といいますか。

- (7) アジアNIESの一員に数えられる国を、地図中のA～Eから一つ選び、記号で答えなさい。

(1) イ (2) IT 産業 (3) Z (4) ア (5) ウ
(6) ① C ② 一人っ子政策 (7) E

わかる! 考え方

- ① (1) アのカトリックはおもに西ヨーロッパ、イの正教会は東ヨーロッパ、ウのプロテスタントは北ヨーロッパの地域でそれぞれ信仰されています。

- (2) 地図中のA～Dの国は、Aがスペイン、Bがオランダ、Cがイタリア、Dがノルウェーです。フィヨルドは、かつての氷河によってつくられた複雑な地形のことです。

- (3) 地中海式農業は、イタリアなど夏に高温で乾燥し、冬に温暖で雨が多い気候の地域で行われています。

- (4) EUが結成される前には、1967年に発足したEC(ヨーロッパ共同体)がありました。ECが、1993年にEUへと発展しました。

- (5) ユーロは2012年現在、EUに加盟している27か国のうち、17か国で使われています。

- ② (1) Aの国はサウジアラビアで、乾燥しているため農業には適さない地域です。

- (2) Bの国はインドで、IT産業が急速に発展している国です。

- (3) Cの国は中国で、海沿いの地域に外国企業を受け入れる経済特区を設けています。

- (4) Dの国はタイで、ASEANとは東南アジア諸国連合の略称です。イのANZUSとは、太平洋安全保障条約のことです。この条約は、アメリカ合衆国とオーストラリア・ニュージーランドの間で結ばれた軍事同盟に関するものです。ウのAUとは、アフリカ連合のことです。

- (5) 大韓民国(韓国)と朝鮮民主主義人民共和国(北朝鮮)の位置に注意しましょう。

- (6) ①世界一人口が多い国は中国で、第二位はインドです。

- ②一人っ子政策とは、一組の夫婦が産んで育てる子どもは一人だけとする政策です。

- (7) アジアNIESには、韓国、台湾、ホンコン、シンガポールが数えられています。

確認のテスト

本文 p. 40~41

① 右の地図を見て、次の問いに答えましょう。

(各5点)

- (1) 地図中のa～cにあてはまるものを、
からそれぞれ一つ選び、記号で答えなさい。

ア アンデス山脈 イ アマゾン川
ウ ブラジル高原 エ パンパ



- (2) aの流域で行われてきた、森林や草原を焼
き払い、その灰を肥料にする農業を何とい
いますか。

- (3) ブラジルが世界一の生産量をほこる農作物を、次のア～ウから一つ選びなさい。

[ア カカオ イ 米 ウ コーヒー]

(1) a **イ** b **ウ** c **ア** (2) **焼畑農業** (3) **ウ**

② 次の問いに答えましょう。

(各7点)

- (1) 20世紀にオーストラリアで行われていた、ヨーロッパ系の移民を優先させる政策
を何といいますか。
- (2) 現在のオーストラリアが目ざしている、さまざまな文化をたがいに尊重しあうよ
うな社会を何といいますか。
- (3) ニュージーランドの先住民を何といいますか。

(1) **白豪主義** (2) **多文化社会** (3) **マオリ**

③ 右の地図を見て、次の問いに答えましょう。

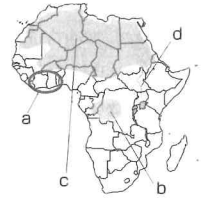
(各6点)

- (1) 次の各文にあてはまる場所を、地図中のa～
cから選び、記号で答えなさい。

- ① カカオ栽培がさかんなギニア湾沿岸の地域。
② 世界最大のサハラ砂漠がある地域。
③ 熱帯雨林が広がるコンゴ盆地。

- (2) dの世界最長の川を何といいますか。

- (3) 南アフリカ共和国で長い間行われていた、黒
人を差別する人種隔離政策を何といいますか。



(1) ① **a** ② **c** ③ **b**
(2) **ナイル川** (3) **アパルトヘイト**

④ 次の問いに答えましょう。

(各6点)

- (1) アメリカ合衆国で近年増えている、スペイン語を話す移民のことを何といいま
すか。

- (2) 次の①～③の文にあてはまる場所を、右
の地図中a～cから選び、答えなさい。

- ① めぐまれた鉱産資源で初期に工業が発
展した、五つの湖がある地域。
② 現在の工業の発展の中心である、北緯
37度より南の地域。
③ コンピュータ関連産業の中心地がある地域。



(1) **ヒスパニック** (2) ① **c** ② **b** ③ **a**

わかる! 考え方

- ① (1) エの**パンパ**は、**アルゼンチン**にあり、小麦やとうもろこしの栽培や牛の牧畜が行われている大平原で、地図中のa～cにはふくまれていません。
- (2) **焼畑農業**は、aの流域に住む先住民たちによって伝統的に行われてきた農業です。
- (3) 現在**ブラジル**は、コーヒーの輸出のみに依存しないように、大豆やオレンジなどの生産にも力を入れています。
- ② (1) **オーストラリア**では、かつて、先住民の**アボリジニ**を白人に同化させる政策もとられてきましたが、現在では廃止されています。
- (2) **多文化社会**への取り組みとして、さまざまな言語を使ったテレビ番組の放送や、異文化を理解するための外国語教育の実施などがあります。
- (3) オーストラリア大陸の先住民である**アボリジニ**と間違えないように注意しましょう。
- ③ (1) ①地図中のaの地域には、**ガーナ**や**コートジボワール**などの国があります。
- ②アフリカには**サハラ砂漠**のほか、リビア砂

漠やナミブ砂漠などがあります。

③ここでは一年じゅう雨が多く降り、バナナやいも類の栽培がさかんです。

- (2) **ナイル川**は古くから、内陸と海岸とを結ぶ重要な交通路になっています。

- (3) **アパルトヘイト**は、1990年代のはじめに廃止されました。

- ④ (1) 移民の数が増加する一方、白人と移民との格差や移民たちの貧困などが問題になっています。

- (2) ①地図中のCは**五大湖周辺**です。北アメリカで最も古い工業地域で、現在もアメリカの工業の中心地の一つです。

②地図中のbの地域を**サンベルト**といい、航空機など先端技術産業の中心地です。

③地図中のaを**シリコンバレー**といい、世界的なコンピュータ関連産業の中心地です。

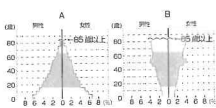
確認のテスト

本文 p.64~65

① 右の人口ピラミッドのグラフを見て、次の問いに答えましょう。(各9点)

(1) Aのグラフが表す人口の特徴にあてはまるものを、次のア〜ウから一つ選び、記号で答えなさい。

- ア 人口が減少している
イ 人口が増加している
ウ 死亡率が低い




- (2) Bのグラフのように、高齢者人口の割合が高くなることを、何といいますか。
(3) 発展途上国に多く見られるグラフの形は、A・Bのどちらですか。
(4) 現在の日本の人口構成に近いグラフは、A・Bのどちらですか。

(1) **イ** (2) **高齢化** (3) **A** (4) **B**

② 右のおもな国の発電量のうちわけのグラフを見て、次の問いに答えましょう。(各8点)

(1) Aの発電所が日本で多くつくられている地域を、次のア〜ウから一つ選び、記号で答えなさい。

- ア 都市近くの海岸 イ 山間部
ウ 都市からはなれた海岸



(2) Bの発電方法を答えなさい。

(1) **イ** (2) **火力** 発電

③ 次の文を読み、あとの問いに答えましょう。(各8点)

日本は①環太平洋造山帯に位置する島国で、②フォッサマグナを境に広がる山地が国土7割以上を占めているため、河川は距離がAく、流れがBなものが多い。

(1) 下線部①の環太平洋造山帯にふくまれない山脈を、次のア〜ウから一つ選び、記号で答えなさい。

- ア ロッキー山脈 イ ヒマラヤ山脈
ウ アンデス山脈



(2) 下線部②のフォッサマグナの位置として正しいものを、右の地図中のa〜cから一つ選び、記号で答えなさい。

(3) 文中のA・Bにあてはまる語句の組み合わせとして正しいものを、次のア〜エから一つ選び、記号で答えなさい。

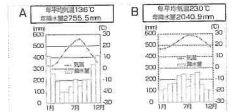
- ア A—長、B—ゆるやか イ A—長、B—急
ウ A—短、B—ゆるやか エ A—短、B—急

(1) **イ** (2) **b** (3) **エ**

④ 次の問いに答えましょう。(各8点)

(1) 右のA・Bの雨温図が表す気候にあてはまるものを、次のア〜エからそれぞれ一つずつ選び、記号で答えなさい。

- ア 日本海側の気候 イ 北海道の気候
ウ 中央高地の気候 エ 南西諸島の気候



(2) 季節によって風向きが変わる風を、カタカナで何といいますか。

(1) A **ア** B **エ** (2) **モンスーン**

わかる! 考え方

- ① (1) Aは、**出生率・死亡率**ともに高く、人口が増加傾向にあることを示しています。
(2) Bは、**出生率・死亡率**ともに低下している国や地域で見られる人口ピラミッドです。
(3) 発展途上国では、Aのような**富士山型**の人口ピラミッドが多く見られます。
(4) 日本は**少子高齢化**が進み、Bのような**つぼ型**の人口ピラミッドになっています。
- ② (1) **ブラジル**の発電の8割以上を占めるAは**水力発電**です。川やダムを利用するので、山間部に多くつくられています。
(2) 国の発電の7割以上を**原子力**が占める**フランス**のグラフは特徴的です。覚えておくといでしょう。
- ③ (1) **ヒマラヤ山脈**は、**アルプス・ヒマラヤ造山帯**にふくまれています。ロッキー山脈は北アメリカ大陸、アンデス山脈は南アメリカ大陸にあり、両方とも環太平洋造山帯にふくまれます。
(2) **フォッサマグナ**は本州中央部を南北にはしるみ

ぞ状の地形です。日本は、フォッサマグナを境に東西で山脈の方向や地形・岩石なども大きく異なっています。

(3) 日本の河川は、標高の高いところから一気に海へ流れこむので、世界のおもな川と比べて、**短くて急**なことが特徴です。

(4) (1) Aは、冬の降水量が多いことから、冬に雪の多い**日本海側**の雨温図とわかります。Bは、1年を通して雨が多く、冬の気温が10℃を下回らないことから、冬でも温暖な**南西諸島**の雨温図とわかります。

(2) 日本では、夏は**太平洋側**から、冬は大陸側から**季節風**が吹きます。冬の季節風は、日本海で水蒸気をふくみ、日本列島の日本海側でたくさんの雪を降らせます。季節風のことをカタカナで**モンスーン**といいます。

確認のテスト

本文 p.74~75

① 右の地図を見て、次の問いに答えましょう。(各6点)

(1) 地図中のaは、工業地域が集まる帯状の地域です。これを何といいますか。

(2) 地図中のbにあてはまるものを、次のア～エから一つ選び、記号で答えなさい。

- ア 中京工業地帯 イ 阪神工業地帯
ウ 京浜工業地帯 エ 北九州工業地帯

(3) かつて日本で主流であった原料を輸入して製品をつくり、できた製品を輸出する貿易を、何といいますか。

- (1) 太平洋ベルト (2) ア (3) 加工貿易

② 次の問いに答えましょう。(各7点)

(1) 右のグラフのaにあてはまるものを、次のア～ウから選び、記号で答えなさい。

- 【ア 食料品 イ 機械機器 ウ 石油】

(2) 日本の貿易のさい、軽く小さなものや食料品などの新鮮さが求められるものを選ぶときに有利な輸送方法を答えなさい。

(3) 日本の貿易のさい、鉱産資源や自動車などの重くて大きなものを運ぶときに有利な輸送方法を答えなさい。

- (1) イ (2) 航空輸送 (3) 海上輸送

③ 右の図を見て、次の問いに答えましょう。(各6点)

(1) 図のa～cにあてはまるものを、次のア～ウからそれぞれ一つずつ選び、記号で答えなさい。

- 【ア 九州 イ 北陸 ウ 北海道】

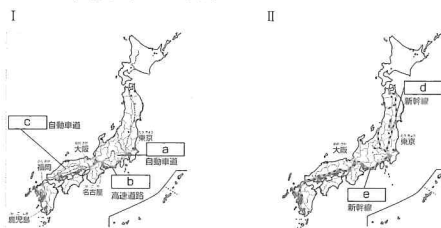
(2) 暖かい地域で行われている、作物の生長を早めて栽培することを何といいますか。

(3) 涼しい地域で行われている、作物の生長をおくらせて栽培することを何といいますか。

- (1) a ウ b イ c ア

- (2) 促成栽培 (3) 抑制栽培

④ 次のⅠ・Ⅱの地図を見て、a～eにあてはまるものを、下のア～オからそれぞれ一つずつ選び、記号で答えましょう。(各5点)



- a イ b ア c ウ d オ e エ

わかる 考え方

- ① (1) 北九州～瀬戸内～太平洋の臨海部に工業地帯が集中し、太平洋ベルトとよばれています。
- (2) bは、愛知県を中心に広がる中京工業地帯です。京浜工業地帯は東京～神奈川の臨海部、阪神工業地帯は大阪湾岸、北九州工業地帯は福岡県北九州市を中心に広がっています。
- ② (1) 日本の輸出の中心は、自動車などの機械機器です。
- (2) 新鮮さが求められる食料品や軽量の電子部品などは航空輸送が利用されています。
- (3) 重量の重い自動車などの機械類や、石油・石炭などの鉱産資源は海上輸送が利用されています。
- ③ (1) aは畜産が約50%を占め、野菜やいも類の生産が多いので、酪農を中心とした農業のさかんな北海道と判断できます。bは米の生産が中心なので北陸、aに次いで畜産の多いcは九州地方です。それぞれの地域の気候や土壌(火山灰土など)の性質と関連づけて覚えましょう。
- (2) 促成栽培は、宮崎県や高知県などでさかんです。

冬でも暖かい気候を利用して、ビニルハウスで野菜を栽培し、出荷時期を早めています。

(3) 抑制栽培は、長野県や群馬県などで行われています。涼しい地域で出荷時期をおくらせるように栽培します。

④ 1960年代以降、高速道路や新幹線の整備が進み、国内の移動時間が大幅に短縮されました。製品の輸送に便利な高速道路沿いに工業団地が形成されるなど、工業地域の拡大にもつながっています。高速道路の名称には、東京の「東」と名古屋の「名」から「東名」と名づけられたように、その道路が結ぶ地名が用いられているものが多くあります。ほかにどのようなものがあるか調べてみるのも楽しいですよ。

確認のテスト

本文 p.84~85

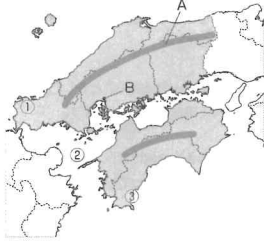
① 右の地図を見て、次の問いに答えましょう。

(各6点)

(1) 地図中のAの山地を何といいますか。

(2) 次のア～ウのうち、Bの広島市について述べた文として正しいものを一つ選び、記号で答えなさい。

- ア 中国・四国地方における地方中枢都市である。
 イ 世界で最初に原子爆弾が投下された。
 ウ 人口の流出による過疎化に悩まされている。



(3) 地図中の①～③のうち、冬にもっとも多くの雪が降る地域はどこですか。

(4) ②の沿岸部に広がる工業地域を何といいますか。

(5) ③の地域でかつてよく行われていた、1年間に同じ耕地で同じ作物を2回栽培することを何といいますか。

(6) ①～③の地域とその名称の組み合わせが正しいものを、次のア～エから一つ選び、記号で答えなさい。

- ア ①山陽 ②北四国 ③山陰 イ ①山陰 ②瀬戸内 ③南四国
 ウ ①瀬戸内 ②山陰 ③南四国 エ ①山陽 ②北四国 ③南瀬戸

(1) 中国 山地	(2) ウ	(3) ①	(4) 瀬戸内 工業地域
(5) 二期作	(6) イ		

② 右の地図を見て、次の問いに答えましょう。

(各8点)

(1) 地図中のAの工業地域を何といいますか。

(2) Bについて次の問いに答えなさい。

① Bの火山を、次のア～エから一つ選び、記号で答えなさい。

- ア 雲仙岳 イ 阿蘇山
 ウ 普賢岳 エ 霧島山

② Bにある、火山が噴火したあとにてきたくぼ地のことを何といいますか。

(3) Cで起きた公害病を次のア～ウから一つ選び、記号で答えなさい。

- ア イタイタイ病 イ 四日市ぜんそく ウ 水俣病

(4) Dにある工場では、集積回路の生産がさかんです。この集積回路のことを、アルファベットで何といいますか。次のア～エから一つ選び、記号で答えなさい。

- ア IC イ IT ウ AI エ CI

(5) 大型のビニルハウスを使い、ピーマンなどの促成栽培がさかんな地域としてもっともあてはまるものを、地図中のA～Dの中から一つ選び、記号で答えなさい。

(6) 九州南部にある、火山灰などがふりつもってきた台地を何といいますか。

(7) (6)の地域で現在もさかんな産業を、次のア～エから一つ選び、記号で答えなさい。

- ア 棚田による観光業 イ 石炭業
 ウ 畜産業 エ さとうきび栽培

(1) 北九州 工業地域	(2) ① イ ② カルデラ	(3) ウ
(4) ア	(5) D	(6) シラス 台地 (7) ウ

わかる! 考え方

① (1) Aは**中国山地**です。(2) 広島市は、**地方中**枢都市として発展し、人口が集中して**過密問題**が生じているので、ウは正しくありません。(3) ①は**日本海側の気候**で、冬は**季節風**の影響で雪が多く降ります。(4) 瀬戸内海沿岸に広がる**瀬戸内工業地域**です。造船や自動車産業、石油化学工業などがさかんです。(5) 南四国の**高知平野**で、かつて米の**二期作**がさかに行われていました。(6) 中国山地より北を**山陰**、中国山地と四国山地の間を**瀬戸内**、四国山地の南側を**南四国**とよびます。② (1) 福岡県**北九州市**を中心に広がる**北九州工業地域**です。(2) ①九州のほぼ中央にある**阿蘇山**です。雲仙岳は長崎県、霧島山は宮崎県と鹿児島県の境にあります。普賢岳は雲仙岳の別名です。②阿蘇山の**カルデラ**は世界最大級といわれています。(3) Cは、熊本県水俣市。**水俣病**は四大公害病の一つです。**ア**のイタイタイ病は、富山県の神通川下流域で発生した公害病です。**イ**の四日市ぜんそくは三重県四日市市で発生した公害病です。(4) 集積回路をICといいます。九州は、各県がICの工場を誘致し、**シリコンアイランド**とよばれるようになりました。(5) Dは**宮崎平野**です。ピーマンやきゅうりなどの**促成栽培**が行われています。(6) **桜島**をはじめとする火山の噴出物がふりつもってきた**シラス台地**です。(7) シラス台地は、土がやせて水分を保ちにくいため、**畜産**が多く行われています。

確認のテスト

本文 p.94~95

① 右の地図を見て、次の問いに答えましょう。

(各6点)

- (1) 地図中のaの平野を、次のア〜ウから一つ選び、記号で答えなさい。

ア 関東 イ 大阪 ウ 讃岐

- (2) 大阪を中心に、京都や神戸に広がる工業地帯を、次のア〜ウから選び、記号で答えなさい。

ア 阪神 イ 京浜 ウ 瀬戸内

- (3) bの山地を何といいますか。

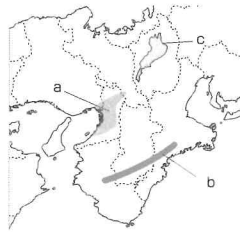
- (4) bの山地でさかんに行われているものを次のア〜エから一つ選び、記号で答えなさい。

ア 重化学工業 イ 林業 ウ 畜産業 エ 製糸業

- (5) cの湖を何といいますか。

- (6) 大阪は、江戸時代から商業が発展し、「天下の□」と呼ばれました。□にあてはまる語句を答えなさい。

(1) イ	(2) ア	(3) 紀伊	山地
(4) イ	(5) 琵琶	湖	(6) 台所



② 右の地図を見て、次の問いに答えましょう。

(各6点)

- (1) 地図中のaには三つの山脈が連なっています。これを何といいますか。

- (2) bの北陸地方でもっともさかんにつくられている作物を次のア〜ウから一つ選び、記号で答えなさい。

ア 米 イ 小麦 ウ なし

- (3) cの金沢市とdの鯖江市の地場産業にあてはまるものを、次のア〜オからそれぞれ一つずつ選び、記号で答えなさい。

ア 金物 イ 加賀友禅 ウ 九谷焼 エ 売薬 オ 眼鏡枠

- (4) eの県を中心に広がっている工業地帯を何といいますか。

- (5) fの愛知県豊田市で生産がさかんなものを次のア〜ウから一つ選び、記号で答えなさい。

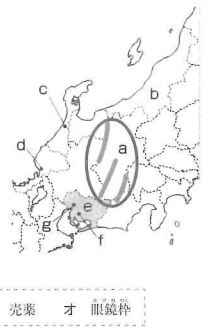
ア 楽器 イ 自動車 ウ 造船

- (6) gの都市を中心に発展した地域のことを「□大都市圏」といいます。□にあてはまる語句を答えなさい。

- (7) 静岡県で栽培がさかんなものを、次のア〜ウから一つ選び、記号で答えなさい。

ア リンゴ イ 茶 ウ コーヒー

(1) 日本アルプス	(2) ア	(3) c	イ	d	オ
(4) 中京工業地帯	(5) イ	(6) 名古屋	(7) イ		



わかる! 考え方

- ① (1) アの関東平野は関東地方に、ウの讃岐平野は四国地方の香川県に広がっています。
- (2) イの京浜工業地帯は東京、神奈川の沿岸部に、ウの瀬戸内工業地域は瀬戸内海沿いの地域に広がっています。
- (3) 紀伊山地は近畿地方の南部に広がるけわしい山地で、夏には南東からの季節風により雨が多く降ります。
- (4) 紀伊山地では、すぎやひのきなど、良質な木が育つため林業がさかんです。
- (5) 琵琶湖は日本最大の湖で、人々の生活や工業の発展を支えてきましたが、近年は水質の汚染などが問題になっています。
- (6) 大阪は瀬戸内海や琵琶湖などの水運にめぐまれていたことや、周辺で商品となる作物の栽培がさかんだことから、江戸時代から商業が発展しました。
- ② (1) 日本アルプスには、飛騨、木曽、赤石山脈があり、いずれも標高3000m前後ある大きな山脈で

す。

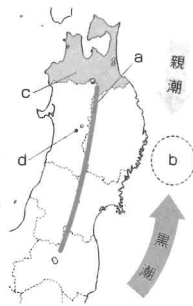
- (2) 北陸地方のなかでも、新潟県の魚沼などでつくられている「コシヒカリ」は、高品質な銘柄米として高い価格で販売されています。
- (3) 北陸地方には、ほかにも多くの伝統産業や地場産業があるので、しっかり覚えておきましょう。
- (4) 中京工業地帯と東海工業地域を混同しないように注意しましょう。
- (5) 愛知県豊田市は世界最大級の自動車生産地域であり、自動車会社の本社や組み立て工場、自動車の部品工場などが集まっています。
- (6) 名古屋大都市圏は、愛知県名古屋市を中心に岐阜県や三重県にも広がっています。
- (7) 静岡県は全国一の茶の生産地として有名で、日当たりと水はけのよい台地などで栽培されています。

確認のテスト

本文 p.104~105

① 右の地図を見て、次の問いに答えましょう。(各6点)

- (1) 東北地方の太平洋側で、夏にふく冷たい北東の風を何といいますか。
- (2) 地図中のaの山脈を何といいますか。
- (3) bには、黒潮と親潮がぶつかる□(潮境)があります。□にあてはまる語句を答えなさい。
- (4) 地図中のcの青森県で栽培がさかんな農産物を、次のア〜ウから一つ選び、記号で答えなさい。
- (5) 地図中のdの、江戸時代の武家屋敷のようすや古くからの町なみが今も残る場所はどこですか。次のア〜ウから一つ選び、記号で答えなさい。
- (6) 東北地方のこけしや漆器など、地元で手に入るものを材料にして、江戸時代やそれ以前からつくられている工芸品を何といいますか。



(1) やませ	(2) 奥羽	山脈	(3) 潮目
(4) ウ	(5) イ	(6) 伝統的工芸品	

② 次の問いに答えましょう。

(各8点)

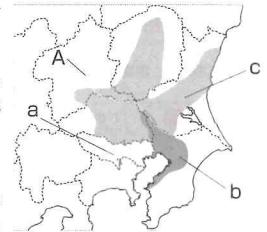
- (1) 関東平野をおおっている、火山灰がふりつもってきた地層を何といいますか。
- (2) 千葉県などの大消費地に近い地域で、大都市向けに野菜や牛乳などを生産する農業を何といいますか。ア〜ウから一つ選び、記号で答えなさい。
- (3) 群馬県の山間部で生産がさかんなものを次のア〜ウから一つ選び、記号で答えなさい。
- (4) 右の地図中のAの川を何といいますか。
- (5) 次の工業地帯・工業地域を地図中のa〜cからそれぞれ一つずつ選び、記号で答えなさい。
- (6) 東京都心部から放射状に広がり、横浜、川崎など多くの都市がふくまれる都市圏のことを何といいますか。
- (7) 東京などの大都市で起きている、ごみの増加や環境汚染、騒音などのさまざまな問題をあらわす語句をア〜ウから一つ選び、記号で答えなさい。

ア 近郊農業 イ 混合農業 ウ 焼畑農業

ア さとうきび イ キャベツ ウ ピーマン

① 京浜工業地帯 ② 北関東工業地域

ア 都市問題 イ 過疎化 ウ ドーナツ化現象



(1) 関東ローム	(2) ア	(3) イ	(4) 利根	川
(5) ① a	(6) c	(7) 東京大都市圏	(8) ア	

わかる! 考え方

- ① (1) やませが続くと、稲の生長が悪くなり、冷害を引き起こすことがあります。
- (2) 東北地方の中央をはしり、この山脈を境に、日本海側と太平洋側の気候にわかれます。
- (3) 潮目(潮境)は三陸海岸沖にあり、漁場に適しています。
- (4) 青森県では、日本で生産されるりんごのうちおよそ半分以上を生産しています。みかんの生産がさかんな地域は、和歌山県や愛媛県などです。お茶の栽培がさかんな地域は、静岡県や鹿児島県です。
- (5) 角館は秋田県にあります。仙台は宮城県、八戸は青森県にあります。
- (6) 東北地方には多くの伝統的工芸品が今も受け継がれています。しっかりおさえましょう。
- ② (1) 関東ロームの台地では畑作がさかんです。
- (2) 近郊農業は、交通網の発達により都心に向かう時間が短くなったことで、より都心から遠い場所でも行えるようになりました。

- (3) 群馬県で生産されるキャベツは、関東地方で消費されるキャベツのおよそ4分の1を占めています。アのさとうきびの生産がさかんな地域は、沖縄県や鹿児島県です。ウのピーマンの生産がさかんな地域は、茨城県や宮城県です。
- (4) 利根川は日本一の流域面積をもつ川です。
- (5) bは京葉工業地域です。京浜工業地帯と間違えないように注意しましょう。
- (6) 東京大都市圏は、東京都心から鉄道が放射状にのびていて、その沿線に新しく住宅地がつくられることによって拡大してきました。
- (7) 都市問題を解決するために、都市部周辺を再開発することにより、都市部の負担を減らす対策などがとられています。イの過疎化は、離島や山間部で地域社会の維持が困難になるほど人口が減少することをいいます。ウのドーナツ化現象は、都市の中心部の人口が減少し、その周辺の地域の人口が増加することをいいます。

確認のテスト

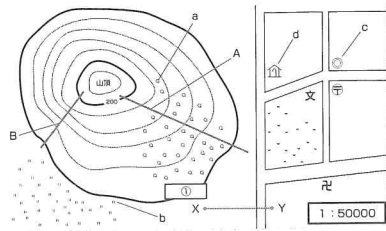
本文 p.114~115

① 右の地図を見て、次の問いに答えましょう。(各8点)

- 地図中のA、Bの平野名をそれぞれ書きなさい。
- Aの平野では畑作がさかんです。代表的な作物を次のア～ウから一つ選び、記号で答えなさい。
ア てんさい イ さつまいも
ウ 茶
- Bの平野で生産がさかんなものを次のア～ウから一つ選び、記号で答えなさい。
ア 牛乳 イ 米 ウ ビーマン
- Cは、北海道の道庁があり、北海道の人口の約3分の1が集中する政令指定都市です。Cの都市名を答えなさい。
- 次の①～③を、地図中のa～eからそれぞれ一つずつ選び、記号で答えなさい。
① ラムサル条約に登録された御路湿原
② 世界自然遺産に登録された知床半島
③ 製紙・パルプ工業がさかんな苫小牧

(1) A	十勝	平野	B	石狩	平野	(2)	ア	(3)	イ
(4)	札幌	(5) ①	c	②	e	③	b		

② 地形図を見て、次の問いに答えましょう。(各4点)



- a～dの地図記号が表しているものを、ア～オからそれぞれ一つずつ選び、記号で答えなさい。
ア 広葉樹林 イ 市役所 ウ 水田 エ 老人ホーム オ 図書館
- この地図の縮尺を○分の1の形で答えなさい。
- 山頂からみて、dはどの方位にあるか、答えなさい。
- 山の斜面A、Bでは、どちらの方がゆるやかか、記号で答えなさい。
- 地図中の①に入る数字をア～ウから一つ選び、記号で答えなさい。
ア 100 イ 250 ウ 150
- 地図上でX～Yは2cmでした。XとYの実際の距離は何kmですか。

(1) a	ア	b	ウ	c	イ	d	エ	(2)	5万	分の1
(3)	東	(4)	A	(5)	ア	(6)	1	km		

わかる 考え方

- (1) Aの^{とがち}十勝平野、Bの^{いしかり}石狩平野は北海道を代表する平野です。位置を間違えないように注意しましょう。
 - てんさいのほか、じゃがいも、あずき、たまねぎなど数多くの作物がつくられています。てんさいは、砂糖大根ともよばれ、根をしぼった汁から砂糖をつくります。イのさつまいもの産地としては、^{かごしま}鹿児島県や^{いばらき}茨城県が有名です。ウの茶の生産は、^{しずおか}静岡県や^{しずおか}鹿児島県でさかんです。
 - 十勝平野で畑作がさかんなのに対し、石狩平野は日本有数の^{こめ}米の生産地になっています。
 - ^{さっぽろ}札幌市は、^{せんだい}仙台市や^{ひろしま}広島市、^{ふくおか}福岡市などとともに^{ちほうちゅうすう}地方中核都市のひとつにも数えられています。
 - 地図中のaは^{はこだて}函館市、dは^{ねむろ}根室半島です。
- ② (1) オの図書館の地図記号は開いた本の形をしています。その他の地図記号も教科書や地図帳で調べてみましょう。
- (2) 地図中に1:50000と書かれているので、この地図は^{しゆくしゃく}5万分の1の縮尺です。

- dの老人ホームは、山頂より東の位置にあります。
- ^{とうこうせん}等高線の^{かんかく}間隔が広いほうが斜面の傾きはゆるやかで、^{せまい}せまいほうが急になります。
- 地図中の①の線が太いことから、これは^{けいきよく}計曲線であることがわかります。5万分の1の縮尺の地図では、計曲線は100mごとに描かれます。山頂近くにある計曲線が200mであることから、①の標高は100mになります。
- 5万分の1の縮尺で描かれた地図では、地図上の1cmは実際の距離で500mになります。だから2cmでは $500\text{m} \times 2 = 1000\text{m}$ となり、 $1000\text{m} = 1\text{km}$ が実際の距離になります。

確認のテスト

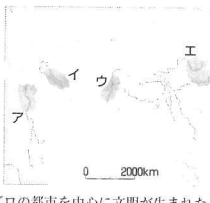
本文 p.12~13

① 右の地図を見て、次の問いに答えましょう。

(各5点)

(1) 次の各文にあてはまる地域を地図中のア～エから選び、記号で答えなさい。

- ① チグリス川・ユーフラテス川流域に文明がおこり、くさび形文字が使われた。
 ② ナイル川流域に文明がおこり、国王の墓として巨大なピラミッドがつくられた。
 ③ うらないの結果を亀の甲や牛の骨に刻んだ甲骨文字が使われた。
 ④ インダス川のほとりて、モヘンジョ・ダロの都市を中心に文明が生まれた。



(2) 地図中のエの地域で、紀元前1600年ごろに生まれた国を何といいますか。

(3) 中国の漢の時代、ローマ帝国と結ばれ、馬やぶどう・仏教などが伝えられた道すじを何といいますか。

- (1) ① **イ** ② **ア** ③ **エ** ④ **ウ**
 (2) **殷** (3) **シルクロード(絹の道)**

② 次の問いに答えましょう。

(各5点)

(1) 縄文時代の人々が、豊かな生産をいってつくった土製の人形を何といいますか。

(2) 縄文時代の人々は地面を少し掘り、柱を立てて屋根をふいた住居に集団で住みました。この住居を何といいますか。

- (1) **土偶** (2) **たて穴住居**

③ 右のA～Cの写真を見て、次の問いに答えましょう。

(各6点)

(1) ① 写真Aは、何というものですか。

(2) Aは、どんなところに置かれたか。次の□□□□から選び、記号で答えなさい。

□□□□ □□□□ □□□□ □□□□



(2) ① Bは、何というものですか。

(2) Bと同じ時代のものを右の□□□□から選び、記号で答えなさい。

□□□□ □□□□ □□□□ □□□□

(3) ① Cは、何というものですか。

(2) Cや銅剣・銅鏡などの金属器を、まとめて何といいますか。



(4) A～Cのうち、日本で稲作が広まったのとほぼ同じ時代のものはどれですか。記号で答えなさい。

- (1) ① **はにわ** ② **ウ** (2) ① **縄文土器** ② **イ**
 (3) ① **銅鐸** ② **青銅器** (4) **C**

④ 次の問いに答えましょう。

(各6点)

(1) ① 右の史料の□□□□にあてはまる人物の名前を答えなさい。

邪馬台国にはもともと男の王がいたが、国内が乱れたので、女子を王に立てた。名を□□□□。(部分要約)

(2) 右の史料は、中国の何という国の歴史書の一部ですか。次の□□□□から選び、記号で答えなさい。

□□□□ □□□□ □□□□ □□□□

(2) 古墳時代、朝鮮半島から日本列島に移り住んだ人々が、土木技術や仏教、漢字などを伝えました。この人々を何といいますか。

- (1) ① **卑弥呼** ② **エ** (2) **渡来人**

わかる! 考え方

① (1)①くさび形文字は、チグリス川・ユーフラテス川流域の**メソポタミア**地方で使われていた文字。②ピラミッドは、ナイル川流域に栄えた**エジプト文明**の遺跡。③甲骨文字は、古代中国の**殷**で使われていた文字で、**漢字のもと**になりました。④モヘンジョ・ダロは、パキスタンのインダス川流域に栄えた**インダス文明**の中心都市。(2)中国には北部に**黄河**、南部に**長江**という二つの大河が流れています。殷の国が生まれたのは、北部の黄河流域です。

(3)シルクロードは、東の漢から西は地中海沿岸のローマ帝国まで結ばれていました。中国の絹(シルク)がこの道を通して運ばれたので、この名がつけました。

② (1)はにわとよく間違えます。土偶は人を形どった土製の人形。はにわは古墳時代のものです。

(2)高床倉庫と間違えやすいので注意しましょう。高床倉庫は、収穫した稲を保存していました。稲作

の始まっていない縄文時代にはありません。

③ (1)土偶とよく間違えます。はにわは古墳の周囲や頂上に並べられた素焼きの土器。円筒型のものや、動物・家などを形どったものがあります。

(2)①縄文土器は、表面に縄目のような文様のついているものが多く、**弥生土器**に比べて厚めです。②縄文土器は**縄文時代**のもの。**ア**の銅剣は**弥生時代**のもの、**ウ**の漢字は**古墳時代**に中国から伝えられました。

(3)①銅鐸は独特の形をしています。祭りのための宝物として用いられたと考えられています。

②銅とすずを混ぜ合わせてつくられたものをまとめて**青銅器**といいます。銅鐸・銅剣・銅鏡はすべて**青銅器**です。(4)青銅器・鉄器などの**金属器**は、稲作とともに、紀元前4世紀ごろ、大陸から日本に伝えられました。④ (1)②邪馬台国のことは、魏の歴史書「**魏志倭人伝**」に書かれており、3世紀ごろの日本の政治や風俗・習慣などを知ることができます。**ア～エ**は中国の国名ですが、**オ**の倭は日本のこと。このころ中国では、日本のことをこう呼んでいました。

確認のテスト

本文 p.26~27

① 右の史料を見て、次の問いに答えましょう。

(各6点)

- (1) この史料を何とといいますか。□□から選び、記号で答えなさい。
- ア 冠位十二階 イ 大宝律令
ウ 十七条の憲法

一に曰く、和を以て貴しとなし、さからうことなきを崇とせよ。
二に曰く、あつて三を叙え。
三とは弘法筆なり。

- (2) (1)を定めた人はだれですか。
- (3) (2)は、中国の進んだ制度を取り入れようと、小野妹子らを中国に派遣しました。この使者を何とといいますか。

- (4) (2)が飛鳥地方に建てた寺を□□から選び、記号で答えなさい。

ア 延暦寺 イ 国分寺 ウ 法隆寺

- (5) 645年、蘇我氏を倒して新しい政治のしくみをつくる改革が行われました。

- ① この改革を何とといいますか。
② この改革を行い、のちに天智天皇になった人はだれですか。

(1) ウ (2) 聖徳太子 (3) 遣隋使
(4) ウ (5) ① 大化の改新 ② 中大兄皇子

② 次の問いに答えましょう。

(各6点)

- (1) 6歳以上の農民に口分田を与え、死ねば国に返させる制度を何とといいますか。

- (2) 口分田の収穫に応じて納める税を何とといいますか。□□から選び、記号で答えなさい。

ア 租 イ 調 ウ 庸 (1) 班田收授法 (2) ア

③ 右の年表を見て、問いに答えましょう。

(各4点)

- (1) A・Bにあてはまる都の名前を書きなさい。

年	できごと
710	都を A 京に移す
794	都を B 京に移す

- (2) 都が A 京だった時代を何時代とといいますか。
- (3) 聖武天皇は、仏教の力によって国を治めようと、都に寺を建てました。何という寺ですか。
- (4) (3)を建てたのは、年表中のどの時期ですか。ア〜ウの記号で答えなさい。

- (5) 摂関政治の全盛期を築き、右下の歌をよんだ人はだれですか。

- (6) 摂関政治のころに栄えた日本風の文化について、
① この文化を何とといいますか。
② このころ、「源氏物語」を著したのはだれですか。

この世をば
わが世とぞ思う 望月の
欠けたることも
無しと思えば

- (7) 摂関政治が行われたのは、年表中のどの時期ですか。ア〜ウの記号で答えなさい。

- (8) 聖武天皇の私財法が出されて、貴族や寺院が増やした私有地を何とといいますか。

- (9) 聖武天皇の私財法が出されたのは、年表中のどの時期ですか。ア〜ウの記号で答えなさい。



- (10) 右の写真の建物を何とといいますか。

- (11) この建物が建てられたころに広まった信仰を何とといいますか。

(1) A 平城 京 B 平安 京	(2) 奈良 時代
(3) 東大寺	(4) イ (5) 藤原道長
(6) ① 国風文化 ② 紫式部	(7) ウ
(8) 荘園 (9) イ (10) 平等院鳳凰堂 (11) 浄土信仰	

わかる！ 考え方

- ① (1)史料は、役人の心構えを示したもので、ウの十七条の憲法の一部です。アの冠位十二階は、冠の色で地位を区別したもので、才能や功績のある人物を役人に取り立てようとした制度です。イの大宝律令は、唐にならってつくった法律で、聖徳太子よりも後の時代に定められました。

- (3)隋に派遣したので遣隋使といます。

- (4)アの延暦寺は、平安時代の初めに最澄が比叡山に建てました。イの国分寺は、奈良時代の中ごろ、聖武天皇が国ごとに建てさせた寺です。

- (5)①大化の改新は、蘇我氏を倒したことだけではありません。公地公民など、天皇中心の新しい政治のしくみをつくり上げるために打ち出した、一連の政治改革のことです。

②中大兄皇子とともに大化の改新を行った中臣鎌足が藤原氏の祖となった人物です。

- ② (2)イの調は、絹・糸や地方の特産物を納める税、ウの庸は、労役のかわりに麻布を納める税のことです。

- ③ (1)現在の奈良(奈良盆地北部)につくられた都が平城京、現在の京都市につくられたのが平安京です。
- (2)奈良に都があったので奈良時代といます。
- (3)仏教をさかんにすることによって国を守ろうと考えた聖武天皇は、国ごとに国分寺と国分尼寺を、総国分寺として都に東大寺を建て、東大寺には大仏をつくらせました。
- (4)年表中のイの時期が奈良時代です。
- (5)この歌は、藤原道長が歌ったもので、世の中すべてが思い通りになっているという意味です。
- (6)①国風とは日本風という意味です。遣唐使が停止されて、日本風の文化が生み出されました。
- (7)摂関政治は平安時代なので年表中のウになります。
- (8)新しく開墾した土地を墾田といい、貴族や寺院は、逃亡してきた農民などを使って開墾を進めました。これが荘園の始まりです。
- (9)聖武天皇の私財法が出されたのは743年なので、年表中のイになります。
- (11)浄土信仰とは、念仏を唱えて阿弥陀如来にすがり、死後に極楽浄土へ生まれ変わることを願う信仰のことです。

確認のテスト

本文 p.42~43

① 右の年表と史料を見て、次の問いに答えましょう。

(各4点)

(1) A・B にははまる人物名を書きなさい。

(2) C にははまる語句を□□から選び、記号で答えなさい。

ア 壬申 イ 承久 ウ 応仁

(3) C の乱後を何時代といいますか。

(4) 年表中の b の時期、幕府はどこにありましたか。

(5) 右の史料は、何というできごとを描いたものですか。

(6) 右のできごとがあったのは、いつですか。年表中の a~d の記号で答えなさい。

(7) 武士で初めて太政大臣の地位についたのはだれですか。

(8) 7が実権をにぎっていたのはいつですか。年表中の a~d の記号で答えなさい。

(9) 次の①~③の時期はいつですか。年表中の a~d の記号で答えなさい。

① 戦国大名が分国法をつくる。 ② 後白河上皇が院政を行う。

③ 朝廷が南北二つに分かれて争う。

(1) A	源頼朝	B	後醍醐天皇	(2)	ウ
(3)	戦国時代	(4)	鎌倉	(5)	元寇
(6)	b	(7)	平清盛	(8)	a
(9) ①	d	②	a	③	c

年	できごと
1192	A が征夷大将軍になる
1333	B が建武の新政を行う
1467	C の乱が始まる



② 右の図を見て、問いに答えましょう。

(各4点)

(1) 右の札は貿易に用いたものです。何といいますか。

(2) この札を用いた貿易を始めた将軍はだれですか。

(3) この札を用いていたころの中国の国名を□□から選び、記号で答えなさい。

(1) 勘合 (2) 足利義満 (3) エ

③ 次の問いに答えましょう。

(各5点)

(1) ①の像について、①この像を何といいますか。また、②この像の作者を下の□□から選び、記号で答えなさい。

(2) ②の建物について、①この建物を何といいますか。また、②この建物を建てた人物を下の□□から選び、記号で答えなさい。

(3) 鎌倉時代のものはどちらですか。A・Bの記号で答えなさい。

(4) 室町時代、土倉や酒屋などをおそい、借金返済などを求めて起こした、農民たちの抵抗を何といいますか。

(5) 次の①・②にあたる人物を右の□□から選び、記号で答えなさい。

① 浄土真宗を始めた僧。

② 能(能楽)を大成した人物。

ア 蓮慶 イ 観阿弥 ウ 足利尊氏
エ 日蓮 オ 親鸞 カ 足利義政

(1) ①	金剛力士像	②	ア	(2) ①	銀閣	②	カ
(3)	①	土一揆	(5) ①	オ	②	イ	



わかる! 考え方

① (1)源頼朝が征夷大将軍になった年と、後醍醐天皇が建武の新政を始めた年は、大きな区切りとなる年です。

(2)アの壬申の乱は、飛鳥時代に起こった天皇のあとつぎをめぐる戦い、イの承久の乱は、鎌倉時代に後鳥羽上皇が幕府を倒そうと呼びかけて始めた戦いです。

(3)応仁の乱は京都で始まりましたが、戦いは全国に広がっていきました。それで戦国時代と呼びます。力が弱くなったとはいえ、京都の室町には足利氏の将軍がいたので、このころも室町時代ですが、終わりの約100年間を特に戦国時代といいます。

(4)鎌倉(神奈川県)に幕府が置かれていたので、鎌倉時代といいます。

(5)史料は、元寇のうち、文永の役の際の御家人の活躍を描いたものです。

(6)元寇は鎌倉時代のことなので、年表中ではbとなります。

(7)太政大臣というのは朝廷内の役職で、貴族がその

地位についていました。

(8)平清盛が権力をにぎったのは平安時代の末。こののち、源平の争乱が起こり、この戦いに勝った源頼朝が鎌倉幕府を開いたので、年表中ではaになります。

(9)①は戦国時代でd、②は平安時代でa、③は室町時代の初めてcとなります。

② (1)勘合とは、「調べ合わせる」という意味です。明はこれを調べ合わせて、倭寇が正式な貿易船かを判断したのです。

③ (1)Aの像は、東大寺の南大門にある金剛力士像で、運慶や快慶らの作と伝えられています。

(3)Bは室町時代に建てられました。

(4)室町時代、農村は相次ぐ戦いで荒らされましたが、農民は、自分たちの村を守るために団結して抵抗するようになりました。

(5)②能は、イの観阿弥と子の世阿弥が大成させました。ウの足利尊氏は足利義満の祖父で室町幕府を開いた人物、エの日蓮は、日蓮宗(法華宗)を開いた僧です。

確認のテスト

本文 p.54~55

① 次のA~Cの 〇 にあてはまる人物名を書き、あとの問いに答えましょう。

(各5点)

- A インドを目指した 〇 は、大西洋を横断し、カリブ海の西インド諸島に到達した。
 B カトリック教会の腐敗を、ドイツ人の 〇 が批判した。
 C 〇 は、アフリカ大陸の南端にある喜望峯を回ってインドに到達した。

- (1) Aの数十年後、南北アメリカを植民地にしていった国を下の 〇 から選び、記号で答えなさい。

ア イギリス イ スペイン ウ ポルトガル

- (2) Bのできごとから始まった動きを何といいますか。

A コロンブス B ルター C パスコ・ダ・ガマ

(1) イ (2) 宗教改革

② 下の年表を見て、問いに答えましょう。

(各6点)

年	できごと
1543	種子島に 〇 A が伝わる
1549	ザビエルが 〇 B を伝える
	ウ

- (1) 年表中の 〇 A・B にあてはまる語句を書きなさい。

- (2) 〇 A を伝えたのはどこの国の人ですか。

- (3) ザビエルは 〇 B の何という会の宣教師でしたか。

- (4) 室町幕府が滅んだ時期を年表中のA~ウから選び、記号で答えなさい。

(1) A 鉄砲 B キリスト教

(2) ポルトガル (3) イエズス会 (4) ウ

③ 次の問いに答えましょう。

(各5点)

- (1) 右の絵は、何という戦いを描いたものですか。



- (2) この戦いで、徳川家康と連合し、大量の鉄砲を活用して勝利した戦国大名はだれですか。

- (3) (2)が城下で行った政策を何といいますか。

- (4) (2)のあとを継ぎ、右の命令を出した人物はだれですか。

- (5) (4)は、全国の田畑の面積や土地のよしあしを調べました。この政策を何といいますか。

- (6) 明の征服を目指した(4)が、2度にわたって大軍を送った国はどこですか。

諸国の百姓が刀やわきざし、弓、やり、鉄砲、そのほかの武器などを持つことは、固く禁止する。
(一部要約)

(1) 長篠の戦い	(2) 織田信長	(3) 楽市・楽座
(4) 豊臣秀吉	(5) 太閤検地	(6) 朝鮮

④ 次の問いに答えましょう。

(各5点)

- (1) 右の絵を描いた人物を 〇 から選び、記号で答えなさい。

ア 運慶 イ 狩野永徳
 ウ 雪舟 エ 出雲の阿国



- (2) 右の絵に代表される、安土桃山時代の文化を何といいますか。

- (3) 茶の湯をわび茶の作法として完成させた人物はだれですか。

(1) イ (2) 桃山文化 (3) 千利休

わかる 考え方

- ① 当時、ヨーロッパではこしょうなどの香辛料や絹織物などを求めて、アジアへの関心が高まっていました。しかし、アジアへはオスマン帝国を通らなければならず、オスマン帝国は物資に重い税をかけていました。そこでヨーロッパの人々は、地中海を通らず直接アジアへ行く航路を求めているのです。

- (1) コロンブスはスペインの援助を受けていたので、彼が到達した南北アメリカ大陸はスペインが植民地にしました。

- (2) ポルトガルは、ゴア・マカオなどを拠点にアジア貿易を独占していました。1543年、マカオへ向かう途中のポルトガル人を乗せた船が種子島に漂着して、鉄砲が日本に伝えられたのです。

- (3) イエズス会は、宗教改革で衰えたカトリック教会の勢力を回復するため熱心に布教し、特にアジアやアフリカへの布教に努めていました。そして、1549年、アジアで布教していたザビエルが鹿児島にやって来たのです。

- (4) 織田信長が、足利義昭を京都から追放したときです。信長が活躍するのはザビエルの来日よりも後なのでウとなります。

- ③ (2)絵の右側が武田軍の騎馬隊で、左側が織田信長軍の鉄砲隊です。

- (3) 信長は安土城を築き、城下では座や関所を廃止してだれでも自由に商売ができるようにしました。この政策を楽市・楽座といいます。

- (4) 右の命令は刀狩令です。農民の一揆を防ぎ、耕作に専念させるため、農民から刀・やり・鉄砲などの武器を取り上げました。

- (6) 秀吉は明を征服しようと、その道案内を朝鮮に求めました。しかし朝鮮がこれに応じなかったため、朝鮮に大軍を送ったのです。

- ④ (1)アの運慶は鎌倉時代、快慶らと東大寺南大門の金剛力士像を制作した人。ウの雪舟は室町時代、水墨画を大成した僧。エの出雲の阿国は安土桃山時代、歌舞伎踊りを始めた女性です。

- (2) 右の絵は「唐獅子図屏風」といい、狩野永徳の代表作です。

確認のテスト

本文 p.64~65

① 下の年表を見て、次の問いに答えましょう。

(各5点)

年	できごと
1600	a A の戦い
1637	b B の戦い
	c

(1) 年表中の A・B にあてはまる地名を「」から選び、記号で答えなさい。

ア 安土・桃山 イ 関ヶ原
ウ 島原・天草 エ 長篠

(2) A の戦いに勝ち、江戸幕府を開いたのはだれですか。

ア 親藩 イ 譜代大名 ウ 外様大名

(3) 江戸時代、(2)の一族の大名を右の「」から選び、記号で答えなさい。

(4) 年表中の b の時期、幕府は大名を統制するために、右のような法律を定めました。この法律を何といいますか。

(5) 史料中の下線部の制度を何といいますか。

(6) 年表中の B 一揆を起こした人たちの多くは、何という宗教を信仰していましたか。

(7) (6)の信者を発見するために右の像を踏ませた方法を何といいますか。

(8) 幕府は、商館を長崎の出島に移して鎖国を完成させました。

① 「」にあてはまる国名を答えなさい。

② 鎖国を完成させたのは、年表中の a～c のどの時期ですか。記号で答えなさい。

— 大名は、毎年4月中に江戸に参勤すること。
— 新しい城をつくってはいけない。
— 大名は、勝手に結婚してはいけない。
(一部要約)



(1) A	イ	B	ウ	(2) 徳川家康	(3) ア
(4) 武家諸法度	(5) 参勤交代	(6) キリスト教			
(7) 絵踏	(8) ① オランダ	② C			

② 次の問いに答えましょう。

(各4点)

(1) 次の文の「」にあてはまる語句を「」から選び、記号で答えなさい。

① 江戸時代には、土を深く耕すことのできる「」など、農具の改良が行われ、農業が発達しました。

② 農村では、麻やわた、あぶらな・茶など、「」の栽培が広まりました。

③ 都市では、大商人が「」という同業者組合をつくり、営業を独占するようになりました。

④ 「」は五街道の一つで、江戸と京都を結んでいました。

ア 座 イ 商品作物
ウ 中山道 エ 東海道
オ 株仲間 カ 千歯こき
キ 二毛作 ク 備中ぐわ

(2) 江戸時代、大阪は「天下の台所」と呼ばれ、諸藩は大阪に米や特産物を保管する倉庫を置きました。この倉庫を何といいますか。

(1) ① ク ② イ ③ オ ④ エ (2) 蔵屋敷

③ 下の文を読んで、あとの問いに答えましょう。

(各5点)

※ 5代将軍 徳川綱吉のころ、上方で町人を担い手とする文化が栄えました。

(1) 下線部Aが出した、極端な動物愛護令を何といいますか。

(2) 下線部Bの文化を何といいますか。

(3) 右の美人画など、町人の風俗を描いた絵を何といいますか。

(4) (2)の文化を代表する人として、①人形浄瑠璃の台本を書いた人、

②俳諧(俳句)を発展させた人、③右の美人画を描いた人をそれぞれ右の「」から選び、記号で答えなさい。

ア 井原西鶴 イ 近松門左衛門
ウ 菱川師宣 エ 松尾芭蕉



(1) 生類憐みの令	(2) 元禄文化	(3) 浮世絵
(4) ① イ ② エ ③ ウ		

わかる 考え方

- ① (1)アは時代名。安土は織田信長が建てた城があったところ、桃山は豊臣秀吉が建てた城があったところで、信長・秀吉のころの時代を、この二つをとって**安土桃山時代**といいます。エの長篠は、織田信長・徳川家康の連合軍が**鉄砲**を使って武田勝頼を破った戦いの場所です。
- (2)関ヶ原の戦いは、徳川家康を中心とする東軍が、豊臣秀吉の家臣**石田三成**を中心とする西軍を破った戦いです。
- (3)イの譜代大名は関ヶ原の戦い以前から徳川氏に従っていた大名、ウの外様大名は関ヶ原の戦い以後徳川氏に従った大名をいいます。
- (5)3代将軍**徳川家光**は、武家諸法度に参勤交代の制度を加えました。
- (7)写真のキリストやマリアの像を**絵踏**といい、キリスト教徒かどうかを調べるためにこれを踏ませたのが**絵踏**です。混同しやすいので注意しましょう。
- (8)鎖国とは、キリスト教を禁止し、外交・貿易を江戸幕府が独占したことをいいます。幕府は、キリ

スト教を認めない**中国(清)**と**オランダ**とだけ貿易を認め、1641年、平戸(長崎県)にあったオランダ商館を出島に移して鎖国を完成させました。これは島原・天草一揆の後なので、年表中のcになります。

- ② (1)わかるものから順に書き入れていきましょう。アの座は鎌倉・室町時代に発達した商工業者の同業者組合。③の答えの株仲間と混同しないようにしましょう。ウの中山道は五街道の一つで、江戸から草津(滋賀県)まで。草津で東海道に合流しました。力の千歯こきは江戸時代に発明された脱穀機、キの二毛作は同じ土地に1年に2回違う作物を作ること。鎌倉時代、畿内を中心に米と麦を作る二毛作が始まりました。
- ③ (3)右の絵は、「見返り美人図」といいます。この絵を描いた菱川師宣は、**浮世絵の祖**となりました。
- (4)アの井原西鶴は近松門左衛門と並び、元禄文化を代表する文学者。町人の生活や欲望を「日本永代蔵」など、**浮世草子**という小説に書きました。

確認のテスト

本文p.74~75

① 下の年表を見て、次の問いに答えましょう。

(各4点)

年	できごと
1716	A. の改革が始まる
1787	B. の改革が始まる
1941	C. の改革が始まる

(1) 18世紀になり、生活に困った人々が起こした行動のうち、①都市の人々が米屋などを襲うこと、②農村で農民が年貢の軽減などを求めて立ち上ることを、それぞれ何といいますか。

(2) 年表中の「A」～「C」にあてはまる年号を「」から選び、記号で答えなさい。

ア 寛政 イ 天明
ウ 天保 エ 享保

(3) 「A」の改革について、

① この改革を行った将軍はだれですか。

② この改革で行われたことを右の「」から二つ選び、記号で答えなさい。

改革の内容

ア 旗本・御家人の礼差からの借金を帳消しにした。
イ 異国(外国)船打払令を出した。
ウ 公事方御定書を定めた。
エ 伊能忠敬に日本地図の作成を命じた。
オ 株仲間を解散を命じた。
カ 目安箱を設置した。

(4) 「B」の改革について、

① この改革を行った老中(はだれ)ですか。

② この改革で行われたことを右の「」から選び、記号で答えなさい。

(5) 「C」の改革について、

① この改革を行った老中(はだれ)ですか。

② この改革で行われたことを上の「」から選び、記号で答えなさい。

(6) 「A」～「C」の三つの改革に共通して命じたことは、質素と何ですか。漢字2字で答えなさい。

(7) 貧しい人々を救おうと、大坂で乱を起こした元町奉行所の役人はだれですか。また、このできごとが起こった時期を年表中のa～dから選び、記号で答えなさい。

(8) 株仲間を公認し、長崎貿易を奨励した老中はだれですか。またこの人が老中だった時期を年表中のa～dから選び、記号で答えなさい。

(1) ① 打ちこわし ② 百姓一揆 (2) A エ B ア C ウ
(3) ① 徳川吉宗 ② ウ カ (4) ① 松平定信 ② ア
(5) ① 水野忠邦 ② オ (6) ① 俵訥
(7) ① 大塩平八郎 c (8) ① 田沼意次 b

② 次の問いに答えましょう。

(各4点)

(1) 右のIについて、

① これは、何という本の表紙絵ですか。

② この本を著した人を下の「」から二人選び、記号で答えなさい。

ア 千利休 イ 前野良沢 ウ 本居宣長 エ 杉田玄白

③ この本と関係の深い学問を下の「」から選び、記号で答えなさい。

ア 国学 イ 朱子学 ウ 蘭学

(2) 化政文化について、

① 右のIIのような絵を何といいますか。下の「」から選び、記号で答えなさい。

② IIを描いたのはだれですか。

③ このころ、十返舎一九が書いた作品を右の「」から選び、記号で答えなさい。

ア 富嶽三十六景 イ 南総里見八犬伝
ウ 東海道五十三次 エ 東海道中膝栗毛

(3) 庶民に読み・書き・そろばんを教えた学校を何といいますか。

(1) ① 解体新書 ② イ エ ③ ウ
(2) ① ウ ② 葛飾北斎 ③ エ (3) 寺子屋

わかる 考え方

① (2)享保・寛政・天保の三つ改革は、改革が行われた年号として覚えておきましょう。イの天明の時に天明のききんが起きました。

(3)～(5)江戸幕府の三大改革名と改革を行った人物名はセットで覚えておきましょう。イ異国(外国)船打払令を出したのは1825年。天保の改革でこれを廃止しました。エは三つの改革とは関係ありません。

(7)大塩平八郎の乱は1837年なので、年表中のc。天保のききんで何もしない幕府に対して乱を起こしたのです。この後天保の改革が始まります。

(8)享保の改革で一時的に立ち直った幕府の財政も長続きはしませんでした。そこで、田沼意次は商工業を活発にして幕府の財政を立て直そうとしました。意次は天明のききんのとき老中をやめさせられ、その後寛政の改革が始まります。ですから、田沼時代は年表中のbになります。

② (1)①・②「解体新書」はオランダ語の解剖書をイの前野良沢とエの杉田玄白らが翻訳して出版した医

学書です。アの千利休は安土桃山時代に茶の湯をわび茶の作法として完成させた人、ウの本居宣長は江戸時代中期の国学の大成者です。

③蘭学は西洋の学問をオランダ語で学ぶ学問です。アの国学は日本古来の思想を明らかにしようとする学問、イの朱子学は儒学一派で、上下の秩序を重視した学問です。

(2)19世紀初め、江戸を中心に発達した町人文化を化政文化といいます。

①錦絵は浮世絵が発展したもので、多色刷りの版画です。アの障壁画はふすまや壁・屏風などに描かれた絵画、イの水墨画は墨の濃淡だけで主に自然の美しさを描いた絵画です。

②IIは「富嶽三十六景」のうち、「神奈川沖浪裏」という風景画です。

③イの「南総里見八犬伝」は滝沢馬琴の書いた長編小説、ウの「東海道五十三次」は歌川(安藤)広重が描いた風景画で、いずれも化政文化を代表する作品です。

(3)寺子が学ぶところ(屋)なので寺子屋といいます。寺の小屋ではないので注意しましょう。

確認のテスト

本文 p.90~91

① 次の問いに答えましょう。

(各2点)

(1) 次の文にあてはまる革命と、革命後に出された宣言を下の〔 〕から選び、記号で答えなさい。

- ① 1688年、イギリスで議会が国王を追放し、イギリスの絶対主政が終わった。
 ② 18世紀後半、アメリカで本国からの独立を求めて起こした。
 ③ 1789年、フランスで絶対王政からの解放を求めて起こした。

〔 ア ビューリタン革命 イ 名誉革命 ウ 独立戦争 エ フランス革命 〇 人権宣言 カ 解体新書 キ 権利章典 ク 独立宣言 〕

(2) 18世紀後半、工業技術が向上し、産業と社会のしくみが大きく変化しました。

- ① このことを何といいますか。
 ② ①が最初に始まった国はどこですか。

(1) ① **イ キ** ② **ウ ク** ③ **エ オ**

(2) ① **産業革命** ② **イギリス**

② 次の問いに答えましょう。

(各4点)

- (1) 右の人物について、① この人物名を答えなさい。
 ② この人物が幕府と結んだ条約名を答えなさい。



(2) 1858年にアメリカと結んだ条約名を答えなさい。また、この条約の不平等な内容について、下の①・②にあてはまる語句を書きなさい。
 ・日本に ① 権がなく、アメリカの ② 権を認めた。

(1) ① **ペリー** ② **日米和親条約**
 (2) **日米修好通商条約** ① **関税自主** ② **領事裁判(治外法)**

③ 右の年表を見て、次の問いに答えましょう。

(各4点)

- (1) 年表中の〔 A 〕・〔 C 〕・〔 D 〕にあてはまる語句を右の〔 〕から選び、記号で答えなさい。

ア 日清 イ 西南
ウ 日露 エ 戊辰

年	できごと
1868	a 戦争が始まる 明治維新が始まる
1889	b 憲法発布
1894	c 戦争が始まる
1904	d 戦争が始まる e

(2) 〔 B 〕にあてはまる語句を書きなさい。

(3) 〔 B 〕憲法の草案を中心になって作成した人物はだれですか。

(4) 〔 C 〕戦争・〔 D 〕戦争の講和条約を、それぞれ何といいますか。

(5) 〔 C 〕戦争後、三国干渉で日本が清に返還したのは、右の地図中のア〜オのどこですか。記号で答えなさい。



(6) 明治維新の三大改革を下の〔 〕から三つ選び、記号で答えなさい。
 〔 ア 文明開化 イ 徴兵令 ウ 地租改正 エ 内閣制度 オ 学制 〕

(7) 次の①〜⑤は、年表中のa〜eのどの時期のできごとですか。記号で答えなさい。

- ① 韓国併合 ② 日英同盟 ③ 辛亥革命 ④ 大政奉還 ⑤ 自由民権運動

(8) 自由民権運動の高まりのなか、①自由党、②立憲改進黨を結成した人物は、それぞれだれですか。

(1) A **エ** C **ア** D **ウ** (2) **大日本帝国**
 (3) **伊藤博文** (4) C **下関** 条約 D **ポーツマス** 条約
 (5) **イ** (6) **イ ウ オ** (定答4点)
 (7) ① **e** ② **d** ③ **e** ④ **a** ⑤ **b**
 (8) ① **板垣退助** ② **大隈重信**

わかる 考え方

- ① (1) **市民革命**については、革命が起こった国と革命名、革命後に出された宣言名をセットで覚えておきましょう。

アのピューリタン革命は1640年、イギリスで**ピューリタン(清教徒)**が中心になって起こした革命、**カ**の解体新書はオランダ語の解剖書を日本語に翻訳した医学書です。

(2) 産業革命によって**資本主義経済**が成立し、人々の生活や社会のしくみが大きく変わりました。

- ② (1) ②この条約と(2)の条約を混同しないようにしましょう。「**和親**」とは仲良くすること、「**修好通商**」とは貿易をすることです。最初からアメリカと貿易を行う条約を結んだわけではありません。まずアメリカ船に食料や水・燃料などの供給を認めて仲良くするという条約を結んだのです。

(2) ①**関税**は、外国からの輸入品にかかる税金です。対等な貿易では関税率は両国とも自主的に決める権利を持っています。

②**領事裁判権(治外法権)**とは、外国人が犯罪を

犯した場合、その国の領事が本国の法律で裁判する権利です。日米修好通商条約で領事裁判権を認めたため、アメリカ人が犯罪を犯しても日本の法律で裁くことができなかったのです。

- ③ (1) **A** 戦争は国内の争い、**C**・**D** 戦争は外国との争いです。**イ**の西南戦争は1877年、**西郷隆盛**を中心として鹿児島で起こった士族の反乱です。

(3) 伊藤博文は、君主権の強いドイツ(プロイセン)の憲法に学んで大日本帝国憲法を作成しました。

(4) 戦争名と条約名はセットで覚えておきましょう。

(5) 三国干渉で清に返還したのは**遼東半島**。**ア**は南樺太、**ウ**は山東半島、**エ**は沖縄、**オ**は台湾です。

(6) **ア**の文明開化は明治時代初期の近代化への動き、**エ**の内閣制度は1885年に設けられた国の政治のしくみ。伊藤博文が初代**内閣総理大臣**に就任しました。

(7) ①は日露戦争後の1910年、②は日露戦争前の1902年、③は1911年、④は1867年。この後、旧幕府軍が新政府軍と戦ったのが戊辰戦争です。⑤自由民権運動の高まりが大日本帝国憲法を制定することになったのです。

確認のテスト

本文 p.104~105

① 次の問いに答えましょう。

(各5点)

- (1) 右の地図のXは、第一次世界大戦のきっかけとなる暗殺事件が起こった半島です。何という半島ですか。



- (2) 次の①・②にあてはまる国を地図中のA～Eから選び、記号で答えなさい。

- ① 第一次世界大戦中、社会主義を目指す政府が誕生した。
② 三国同盟を結んでいたが離脱し、連合国側で参戦した。

- (3) 第一次世界大戦後、国際平和を守るためにつくられた組織を何といいますか。

- (4) 次の①・②の運動を何といいますか。

- ① 1919年、日本からの独立を求めて朝鮮で起こった運動。
② 1919年、日本の二十一条の要求への反発から始まり、帝国主義に反対するものへと発展した中国人たちの運動。

(1) **バルカン半島** (2) ① **オ** ② **エ** (3) **国際連盟**
(4) ① **三・一独立運動** ② **五・四運動**

② 次の問いに答えましょう。

(各4点)

- (1) 次の①～③にあてはまる人物名をA～Eから選び、記号で答えなさい。

- ① 女性差別からの解放を目指して、雑誌「青鞥」を発刊した。
② 普通選挙によって国民の意向を政治に反映させようと、民本主義を唱えた。
③ 初めて本格的な政党内閣をつくった。

A 原敬 I 平塚らいてう
U 吉野作造 E 犬養毅

- (2) 次のA～Eの文から正しいものを二つ選び、記号で答えなさい。

- A 1925年制定の普通選挙法によって、満20歳以上の男子に選挙権が認められた。
I 大正デモクラシーは、第一次世界大戦のころの動きである。
U 小作争議による米価の急騰がきっかけで、米騒動が起こった。
E 普通選挙法と治安維持法は、同じ年に制定された。

(1) ① **イ** ② **ウ** ③ **ア** (2) **イ** **エ**

③ 右の年表を見て、次の問いに答えましょう。

(各5点)

- (1) 年表中の「A」～「C」にあてはまる語句を書きなさい。

年	できごと
1929	A が始まる
1937	B 戦争が始まる
1941	C 戦争が始まる

- (2) A の打開策として、アメリカがとった政策を〔 〕から選び、記号 **ア** ブロック経済 **イ** ファシズム で答えなさい。〔 **ウ** ニューディール政策 〕

- (3) 日独伊三国同盟について、

- ① この同盟が結ばれた時期を年表中のa～dから選び、記号で答えなさい。
② 日本がこの同盟を結んだ国を〔 〕から二つ選び、記号で答えなさい。

〔 **アイ**ギリス **イ**ドイツ **ウ**フランス **エ**イタリア **オ**ソ連 〕

- (4) (3)②のイがポーランドに侵襲して始まった戦争を何といいますか。

- (5) 次のA～ウは、年表中のbの時期に起こったできごとです。これを年代の古い順に並べたとき、2番目になるのはどれですか、記号で答えなさい。

- A 満州事変が始まる。 I 二・二六事件が起こる。 U 国際連盟を脱退する。

- (6) 日本は、無条件降伏を要求した宣言を受け入れて、C 戦争が終りました。この宣言を何といいますか。

(1) A **世界恐慌** B **日中** C **太平洋**
(2) **ウ** (3) ① **C** ② **イ** **エ**
(4) **第二次世界大戦** (5) **ウ** (6) **ポツダム** 宣言

わかる考え方

- ① (1)バルカン半島は当時、列強の利害と、民族・宗教の対立から「**ヨーロッパの火薬庫**」と呼ばれていました。
(2)①はロシア、②はイタリアです。地図の**A**はイギリス、**I**はフランス、**U**はドイツです。
(3)国際連盟は1920年、アメリカの**ウィルソン大統領**の提案に基づいて誕生した、世界平和を守るためにつくられた世界最初の国際組織です。日本はイギリス・フランスなどとともに常任理事国となりましたが、アメリカは国内の反対で参加できませんでした。
(4)①・②とも始まったのは同じ1919年で、第一次世界大戦が終わった次の年です。
- ② (1)**E**の犬養毅は1932年、**五・一五事件**で暗殺された首相です。
(2)**A**普通選挙法によって選挙権が認められたのは、**満25歳以上の男子**です。
ウ米騒動は、**シベリア出兵**をみこした米の買いしめから米の値段が急騰したことをきっかけに起

こりました。

- ③ (1)**B**の日中戦争が長期化するなかで、日本はアメリカやイギリスなどとも戦争を始めました。これが**C**の太平洋戦争です。
(2)**A**のブロック経済はイギリスやフランスが**A**の世界恐慌の打開策としてとった政策。本国と植民地との結びつきを強め、それ以外の国を排除しました。**I**のファシズムはあらゆる民主主義や自由主義を否定する**独裁政治**の体制で、植民地や資源を持たない、第二次世界大戦前のドイツ・イタリア・日本などで見られました。
(3)日独伊三国同盟は、第二次世界大戦が始まった翌年の1940年に、ドイツ・イタリア・日本の三国間で結ばれた軍事同盟です。
(5)日本は、**A**の満州事変(1931年)で**満州国**を建国しましたが、国際連盟はこれを認めなかったため日本は**U**の国際連盟を脱退します(1933年)。そして、軍事政権樹立を目指す陸軍の青年将校らが**I**の二・二六事件を起こし(1936年)、以後軍部は政治的な発言力を強めていきます。このような流れになるので、2番目のできごとは**ウ**になります。

確認のテスト

本文 p.114~115

① 右の写真を見て、次の問いに答えましょう。

(各5点)

- (1) 写真の人物は、GHQ最高司令官です。だれですか。



- (2) 戦後の民主化について、次の各文の□にあてはまる語句を□から選び、記号で答えなさい。

- ① 満20歳以上の□に選挙権が認められた。 □ ア 財閥 □ イ 組合
 ② 経済の民主化のために□が解体された。 □ ウ 工場 □ エ 農地
 ③ 自作農を増やすために□改革が行われた。 □ オ 男子 □ カ 男女

- (3) 1947(昭和22)年5月3日、日本の国の最も基本となる法が施行されました。

- ① この法を何といいますか。
 ② この法で、主権を持つのはだれですか。
 ③ この法で、天皇は「日本国及び日本国民統合の□」になりました。□にあてはまる語句を書きなさい。

- (1) マッカーサー (2) ① カ ② ア ③ エ
 (3) ① 日本国憲法 ② 国民 ③ 象徴

② 次の問いに答えましょう。

(各7点)

- (1) 第二次世界大戦後、資本主義国と共産(社会)主義国の対立が激しくなりました。

- ① この対立を何と呼んでいますか。漢字2文字で答えなさい。
 ② 資本主義国の中心は、どこの国でしたか。

- (2) 次の各文が示しているものを次ページの□から選び、記号で答えなさい。

- ① 連合国による占領が終了し、日本は独立を回復した。
 ② 占領終了後も、日本国内にアメリカ軍の基地を置く。
 ③ 日本は、韓国政府を朝鮮半島の唯一の政府と認める。

- ア 日中平和友好条約 イ 日韓基本条約 ウ 日ソ共同宣言
 エ 日米安全保障条約 オ サンフランシスコ平和条約

- (1) ① 冷戦 ② アメリカ
 (2) ① オ ② エ ③ イ

③ 右の年表を見て、次の問いに答えましょう。

(各5点)

- (1) 年表中の□にあてはまる国を下の□から選び、記号で答えなさい。

□ アイタリア □ イソ連 □ ウドイツ

- (2) 石油危機の原因は何ですか。下の□から選び、記号で答えなさい。

□ ア 日中戦争 □ イ 太平洋戦争 □ ウ 中東戦争 □ エ 朝鮮戦争

年	できごと
1973	a 石油危機が起こる
	b □ が解体
1991	c □

- (3) 次のことがらは、年表中のどの時期のことですか。a～cの記号で答えなさい。

- ① 日本でバブル景気が崩壊した。 ② 日本の高度経済成長が続いた。

- (4) アメリカや日本・ヨーロッパの国々など先進工業国と、アフリカやラテンアメリカなど発展途上国の間には、大きな経済格差や対立があります。この問題を何といいますか。

- (5) 地球温暖化が世界的に大きな問題になっています。その主な原因となっているもので、二酸化炭素など大気を暖めるように作用する気体を何といいますか。

- (1) イ (2) ウ (3) ① c ② a
 (4) 南北問題 (5) 温室効果ガス

わかる 考え方

- ① (1) GHQとは、**連合国軍最高司令官総司令部**のことです。**マッカーサー**は、アメリカの軍人でしたが、**連合国軍**の最高司令官として来日しました。

- (2) ①戦後の**民主化**で、日本でも女性の**選挙権**が認められたのです。

②敗戦まで日本の経済は、三井・三菱・住友などの**財閥**が支配していました。

③敗戦まで農村では地主が大きな力を持っていました。その地主から政府が強制的に土地を買い上げ、小作人に安く売り渡したのが**農地改革**です。

- (3)日本国憲法が施行された5月3日は、「**憲法記念日**」として**国民の祝日**に定められています。また、公布された11月3日は「**文化の日**」という祝日です。

②大日本帝国憲法で主権を持っていたのは、天皇です。この対比は特に重要です。

- ② (1) ①核兵器を含む軍備拡張を競い合い、戦火を交える実際の戦争が発生しかねないほど厳しい対立でした。

- (2) ①ソ連も連合国の一員でしたが、**サンフランシスコ**

コ平和条約には調印しませんでした。日ソ間の戦争状態の終結を認め合ったのが、**ウ**の**日ソ共同宣言**です。

③日本と朝鮮民主主義人民共和国とは、まだ条約を結んでいません。

- ③ (1)ドイツは、「**冷たい戦争**」によって二つに引き裂かれていました。それが統一されたのが、ソ連解体の1年前のことです。

(2)中東とはふつう、西アジアからアフリカ北東部にかけての地域を指します。**中東戦争**は、アラブ諸国とイスラエルとの戦争です。アラブ諸国には産油国が多く、戦争を有利に解決するため、石油の輸出を制限し、輸出価格を大幅に上げました。石油を輸入している国々は大きな打撃を受けました。

(3) ①1980年代末、株式や土地の価格が異常に高くなったのが**バブル景気**です。**ソ連解体**と同じころにバブル景気も崩壊しました。

②日本の**高度経済成長**は、**石油危機**で終わりました。ですから、年表中のaになります。

- (5)二酸化炭素やメタン・代替フロンなど6種類が**温室効果ガス**と定められています。